

小4

◆日本の気候と各地のくらし◆

下巻8回

氏名

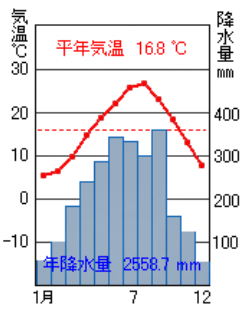
得点

各10点

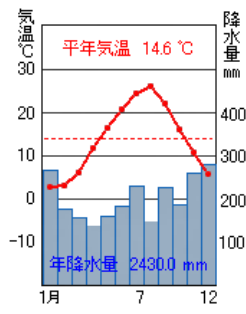
110点

1	日本のほとんどは、温和で四季がはっきりしている（ ）帯にふくまれている。		
2	季節風は、夏には(①)の方位から吹き、冬には(②)の方位から吹く。	①	②
3	北海道以外の地域で、6月ごろから雨の多い日が続くが、この時期を何というか。		
4	熱帯で発生し、8～9月に強い雨風をともなって来るものが(①)で、これが通過する時に海面が高くなる現象を(②)という。	①	②
5	東北地方の太平洋側で、初夏に北東から吹く冷たいしめった風を（ ）という。		
6	雨温図Aは(①)市で、雨温図Bは(②)市である。次の中から選べ。 【金沢、高知、那覇】	①	②
7	雨温図Cは（ ）市である。次の中から選べ。 【釧路、高松、長野】		
8	雨温図Dは（ ）市である。次の中から選べ。 【釧路、高松、長野】		
9	雨温図Eは（ ）市である。次の中から選べ。 【釧路、高松、長野】		
10	夏に気温が低すぎて作物が被害を受けることを(①)害と言い、雨が少ないことから水不足になることを(②)害という。	①	②
11	エアコンや自動車の熱などで、都市の気温が上がりやすくなっている現象を（ ）という。		

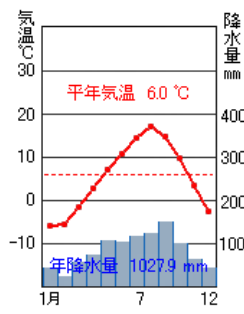
A



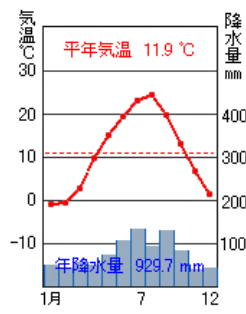
B



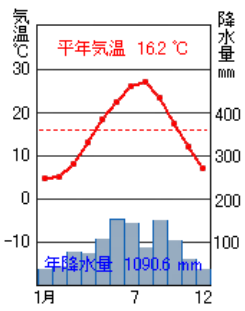
C



D



E



小4

◆日本の気候と各地のくらし◆

下巻8回

氏名

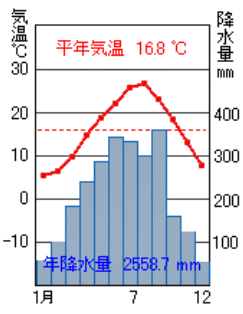
満点 とれ太

得点

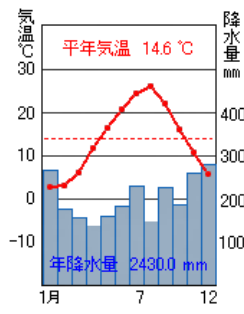
各10点
110点

1	日本のほとんどは、温帯で四季がはっきりしている（ ）帯にふくまれている。	温帯	
2	季節風は、夏には（①）の方位から吹き、冬には（②）の方位から吹く。	①南東	②北西
3	北海道以外の地域で、6月ごろから雨の多い日が続くが、この時期を何というか。	梅雨	
4	熱帯で発生し、8～9月に強い雨風をともなって来るものが（①）で、これが通過する時に海面が高くなる現象を（②）という。	①台風	②高潮 <small>たかしお</small>
5	東北地方の太平洋側で、初夏に北東から吹く冷たいしめった風を（ ）という。	やませ	
6	雨温図Aは（①）市で、雨温図Bは（②）市である。次の中から選べ。 【金沢、高知、那覇】	①高知	②金沢
7	雨温図Cは（ ）市である。次の中から選べ。 【釧路、高松、長野】	釧路 <small>くしろ</small>	
8	雨温図Dは（ ）市である。次の中から選べ。 【釧路、高松、長野】	長野	
9	雨温図Eは（ ）市である。次の中から選べ。 【釧路、高松、長野】	高松	
10	夏に気温が低すぎて作物が被害を受けることを（①）害と言い、雨が少ないことから水不足になることを（②）害という。	①冷	②干
11	エアコンや自動車の熱などで、都市の気温が上がりやすくなっている現象を（ ）という。	ヒートアイランド現象 <small>げんしょう</small>	

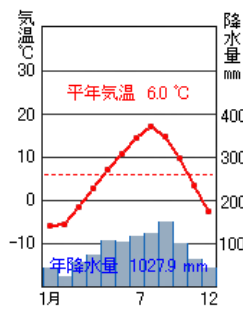
A



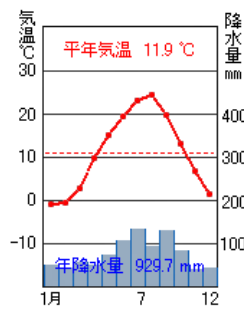
B



C



D



E

