

# 小4

## ◆都道府県と地方（1）◆

上巻4回

氏名

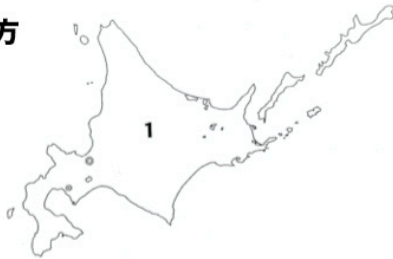
得点

各10点  
160点満点

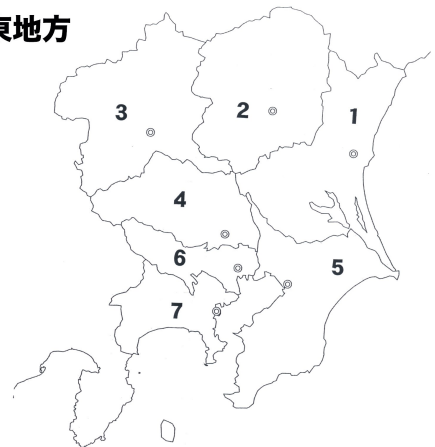
1	北海道の道庁所在地の名前を答えよ。		市
2	東北地方の②の県名と県庁所在地を答えよ。	県	市
3	東北地方の④の県名と県庁所在地を答えよ。	県	市
4	東北地方の県のうち、福島県に接している県の名前を2つ答えよ。	県	県
5	関東地方の①の県名と県庁所在地を答えよ。	県	市
6	関東地方の②の県名と県庁所在地を答えよ。	県	市
7	関東地方の③の県名と県庁所在地を答えよ。	県	市
8	関東地方の⑦の県名と県庁所在地を答えよ。	県	市
9	関東地方には全国で最も人口の多い都道府県がある。この都道府県名を答えよ。		
10	関東地方には海に面していない県が3つある。関東地方の地図から見つけて数字で答えよ。		
11	中部地方には全部でいくつの県があるか。数字で答えよ。		
12	中部地方の②の県名と県庁所在地を答えよ。	県	市

13	中部地方の⑦の県名と県庁所在地を答えよ。	県	市
14	中部地方の⑧の県名と県庁所在地を答えよ。	県	市
15	中部地方には海に面していない県が3つある。中部地方の地図から見つけて数字で答えよ。		
16	中部地方の県で、全部で8つの県と接している県の名前を答えよ。	県	

北海道地方



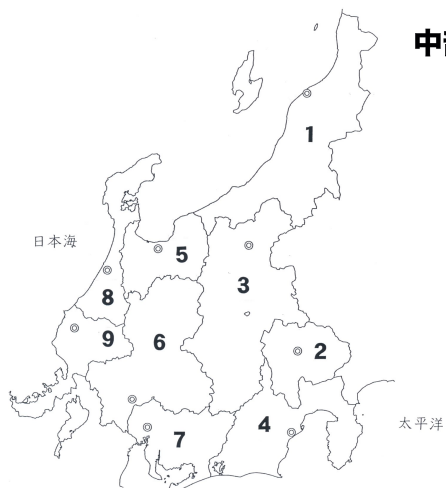
関東地方



東北地方



中部地方



# 小4

## ◆都道府県と地方（1）◆

上巻4回

氏名

満点 とれ太

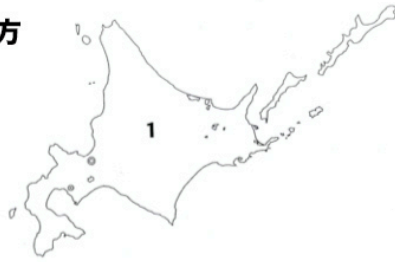
得点

各10点  
160点満点

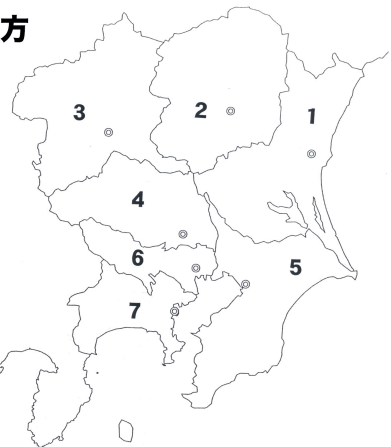
1	北海道の道庁所在地の名前を答えよ。		札幌市
2	東北地方の②の県名と県庁所在地を答えよ。	岩手県	盛岡市
3	東北地方の④の県名と県庁所在地を答えよ。	宮城県	仙台市
4	東北地方の県のうち、福島県に接している県の名前を2つ答えよ。	宮城県	山形県
5	関東地方の①の県名と県庁所在地を答えよ。	茨城県	水戸市
6	関東地方の②の県名と県庁所在地を答えよ。	栃木県	宇都宮市
7	関東地方の③の県名と県庁所在地を答えよ。	群馬県	前橋市
8	関東地方の⑦の県名と県庁所在地を答えよ。	神奈川県	横浜市
9	関東地方には全国で最も人口の多い都道府県がある。この都道府県名を答えよ。		東京都
10	関東地方には海に面していない県が3つある。関東地方の地図から見つけて数字で答えよ。	②（栃木）、③（群馬）、④（埼玉）	
11	中部地方には全部でいくつの県があるか。数字で答えよ。		9
12	中部地方の②の県名と県庁所在地を答えよ。	山梨県	甲府市

13	中部地方の⑦の県名と県庁所在地を答えよ。	愛知県	名古屋市
14	中部地方の⑧の県名と県庁所在地を答えよ。	石川県	金沢市
15	中部地方には海に面していない県が3つある。中部地方の地図から見つけて数字で答えよ。	②（山梨）、③（長野）、⑥（岐阜）	
16	中部地方の県で、全部で8つの県と接している県の名前を答えよ。	長野県	

北海道地方



関東地方



東北地方



中部地方

