

小4

◆地図の見方(2)◆

上巻8回

氏名

得点

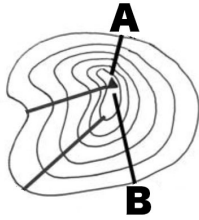
各10点

120点

1

海面から同じ高さのところを結んだ線を、何というか。

2



AとBの登山コースではどちらが安全に登れるか。

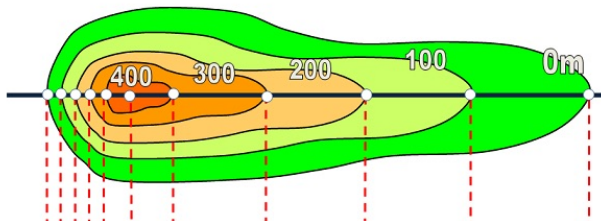
3

土地の高さは、どこの海面を基準きじゆんにしているか。

4

土地を真上から見た図を()という。【 】内からことばを選べ。

【平面図、断面図】

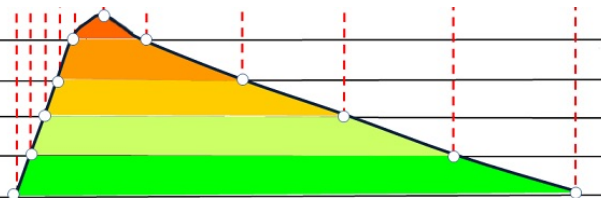


5

土地の切り口を表した図を()という。

【 】内からことばを選べ。

【平面図、断面図】



6

実際のきよりを縮めた割合のことを何というか。

7

「50000分の1の地図」であることを表すには、()と書いて表す。

8	25000分の1の地図で、3cmの長さがあった時、実際の長さは何mか。	
9	50000分の1の地図で、4cmの長さがあった時、実際の長さは何kmか。	
10	実際には500mある長さが、1cmで表されている時、この地図の縮尺は何分の1か。	
11	25000分の1の地図では、高さを表す線は（ ）メートルごとに引かれている。	
12	50000分の1の地図では、高さを表す線は（ ）メートルごとに引かれている。	

出典：国土地理院ウェブサイト (<https://www.gsi.go.jp/KIDS/KIDS07.html>) を加工して作成

小4

◆地図の見方(2)◆

上巻8回

氏名

満点 とれ太

得点

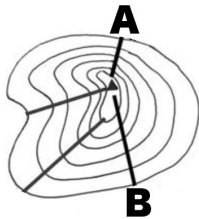
各10点
120点

1

海面から同じ高さのところを結んだ線を、何というか。

とうこうせん
等高線

2



AとBの登山コースではどちらが安全に登れるか。

B
(等高線の間かくが広い方がゆるやか)

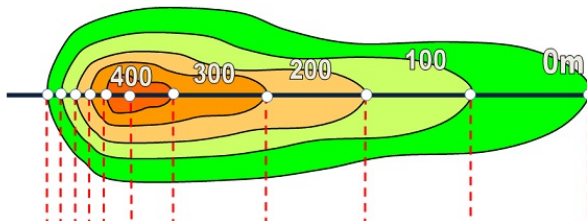
3

土地の高さは、どこの海面を基準まじゆんにしているか。

とうきょうわん
東京湾

4

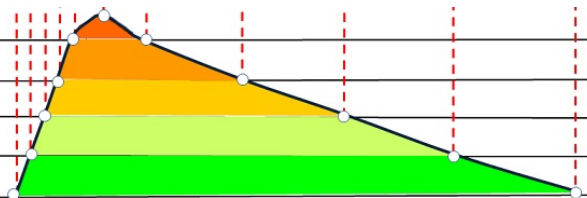
土地を真上から見た図を()という。【 】内からことばを選べ。
【平面図、断面図】



へいめんず
平面図

5

土地の切り口を表した図を()という。
【 】内からことばを選べ。
【平面図、断面図】



だんめんず
断面図

6

実際のきよりを縮めた割合のことを何というか。

しゆくしゃく
縮尺

7

「50000分の1の地図」であることを表すには、
()と書いて表す。

1 : 50000
(1 / 50000)

8	25000分の1の地図で、3cmの長さがあった時、実際の長さは何mか。	$25000 \times 3 = 75000 \text{ cm}$ $= 750 \text{ m}$
9	50000分の1の地図で、4cmの長さがあった時、実際の長さは何kmか。	$50000 \times 4 = 200000 \text{ cm}$ $= 2000 \text{ m} = 2 \text{ km}$
10	実際には500mある長さが、1cmで表されている時、この地図の縮尺は何分の1か。	500mは50000cmだから 50000分の1
11	25000分の1の地図では、高さを表す線は（ ）メートルごとに引かれている。	10
12	50000分の1の地図では、高さを表す線は（ ）メートルごとに引かれている。	20

出典：国土地理院ウェブサイト (<https://www.gsi.go.jp/KIDS/KIDS07.html>) を加工して作成