

小4

◆雪の多い地方のくらし◆

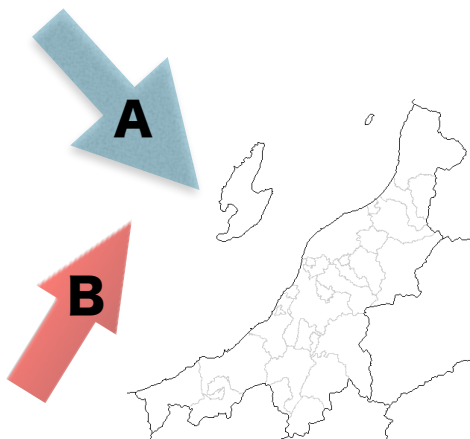
上巻12回

氏名

得点

各10点
150点

1



新潟県に雪を降らせるAの季節風は（ ）の方位から吹いてきます。

新潟県の沖を流れるBの暖流を（ ）といいます。

2

新潟県に広がる平野を（ ）平野という。

3

新潟県を流れる日本一長い川を（ ）川という。

4

雪の重みで家がつぶれないよう、（ ）を行う。

5

道路に積もった雪をとかすため、地下水をふきださせる施設を（ ）という。

6

問5の施設しせつを使いすぎると、地面が下がってしまうおそれがある。このことを（ ）という。

7

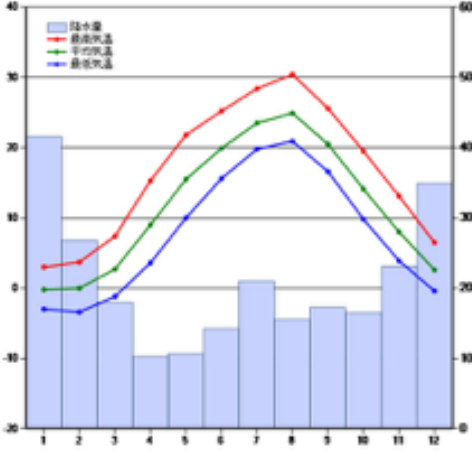
雪と水をいっしょに流すために、道路のわきに（ ）みぞという溝を作る。

8

新潟県で昔見られた、家のひさしをのばしたものを①という。現在、商店街で見られる、歩道の上に長い屋根をつけたものを②という。当てはまる語を選べ。
(かんじき がんぎ アーケード ロータリー)

①

②

9	新潟県では、雪どけ水を利用して（ ）づくりがさかんである。	
10		新潟県十日町市の雨温図を見ると、降水量が最も多い月は（ ）月である。
問11～15までは○か×かで答えよ。		
11	雪おろしはすばやく終わらせるため、一人で作業を行う。	
12	信号機はこわれにくくし、見えやすくするため、たてにならべている。	
13	家の玄関は出入りしやすくするため、高い場所につくる。	
14	雪おろしの時の事故をふせぐため、屋根にはすべりにくくする塗料をぬる。	
15	雪が積もりにくくするため、屋根のかたむきを急にする。	

小4

◆雪の多い地方のくらし◆

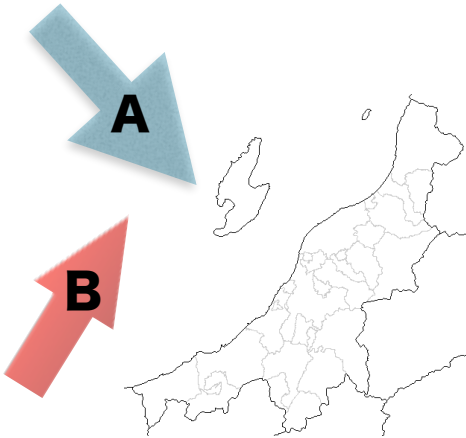
上巻12回

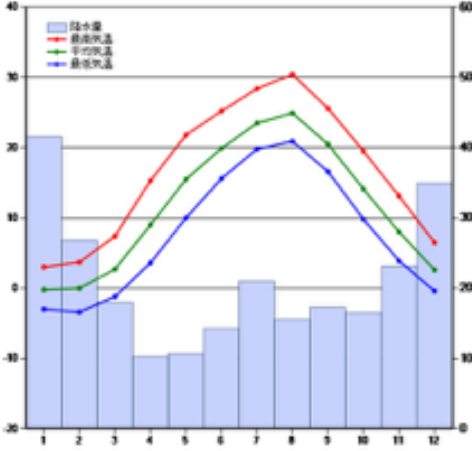
氏名

満点 とれ太

得点

各10点
150点

1		新潟県に雪を降らせるAの季節風は（北西）の方位から吹いてきます。	
		新潟県の沖を流れるBの暖流を（対馬海流）といいます。	
2	新潟県に広がる平野を（ ）平野という。	えちご 越後	
3	新潟県を流れる日本一長い川を（ ）川という。	しなの 信濃	
4	雪の重みで家がつぶれないよう、（ ）を行う。	ゆき 雪おろし	
5	道路に積もった雪をとかすため、地下水をふきださせる施設を（ ）という。	しょうせつ 消雪パイプ	
6	問5の施設を使いすぎると、地面が下がってしまうおそれがある。このことを（ ）という。	じばんちんか 地盤沈下	
7	雪と水をいっしょに流すために、道路のわきに（ ）という溝を作る。	りゅうせつこう 流雪溝	
8	新潟県で昔見られた、家のひさしをのばしたものを①という。現在、商店街で見られる、歩道の上に長い屋根をつけたものを②という。当てはまる語を選べ。 (かんじき がんぎ アーケード ローター)	①がんぎ	②アーケード

9	新潟県では、雪どけ水を利用して（ ）づくりがさかんである。	こめ 米
10		新潟県十日町市の雨温図を見ると、 ^{こうすいりょう} 降水量が最も多い月は（1）月である。
問11～15までは○か×かで答えよ。		
11	雪おろしはすばやく終わらせるため、一人で作業を行う。	×（落ちてしまう危険があるため、必ず二人以上で行う）
12	信号機はこわれにくくし、見えやすくするため、たてにならべている。	○
13	家の玄関は ^{げんかん} 出入りしやすくするため、高い場所につくる。	○
14	雪おろしの時の事故をふせぐため、屋根にはすべりにくくする ^{とりょう} 塗料をぬる。	×（雪がすべりやすくなる ^{とりょう} 塗料をぬる）
15	雪が積もりにくくするため、屋根のかたむきを急にする。	○