

小4

◆雨の少ない地方の暮らし◆

上巻14回

氏名

得点

各10点
130点

1

讃岐平野さぬきが広がっているのは何県か。

2

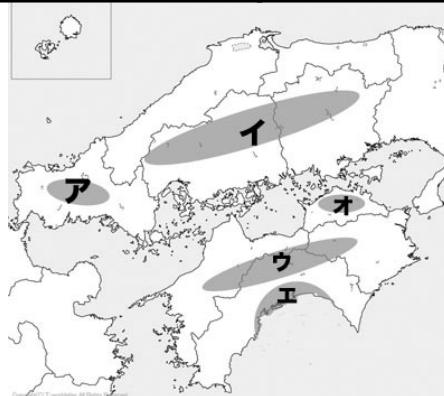
讃岐平野さぬきが面している海の名前を答えよ。

3

下の地図を見て答えよ。讃岐平野さぬきの北にある（イ）山地と、南にある（ウ）山地は、讃岐平野の気候に関係している。

イ

ウ



4

雨の量が少なくなり、稲などの育ちが悪くなる日照りの害を（ ）という。

5

讃岐平野さぬきでは、昔から水をたくわえておく（ ）池が多く作られてきました。

6

問5の池の中で、日本一大きい池は①というおぼろさんが整備した②池である。

①

②

7

1978年に水不足を解消するため、讃岐平野さぬきに（ ）用水が引かれた。

8


問7の用水は、四国三郎とよばれる（ ）川から引かれている。

9

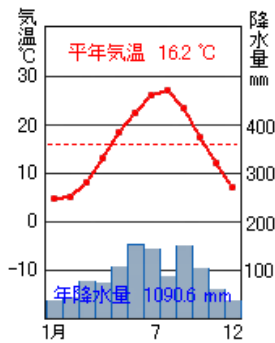
四国三郎とよばれる川は、①県から②県に流れている。

①

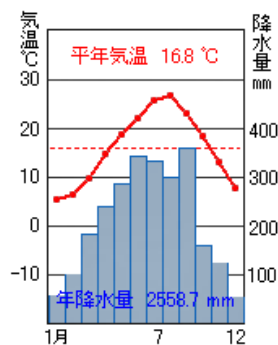
②

10	<small>さぬき</small> 讃岐平野の海ぞいの地域で昔、()をつくっていた。	
11	香川県の県庁所在地を選べ。 (松江市 松山市 高松市 松本市)	
12	香川県では、雨が少なくても育つ小麦を原料とする()という食べ物が有名である。 ⇒イラストを参考に！ <div data-bbox="740 584 944 757" style="text-align: center;">  </div>	
13	<small>さぬき</small> 讃岐平野の気候を示しているグラフはアとイのうち、()のグラフである。	

ア



イ



小4

◆雨の少ない地方のくらし◆

上巻14回

氏名

満点とれ太

得点

各10点
130点

1

讃岐平野さぬきが広がっているのは何県か。

香川県

2

讃岐平野さぬきが面している海の名前を答えよ。

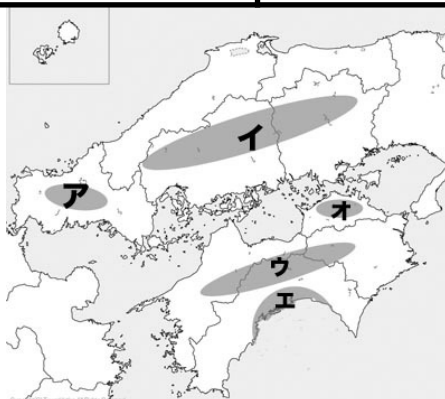
瀬戸内海

3

下の地図を見て答えよ。讃岐平野さぬきの北にある（イ）山地と、南にある（ウ）山地は、讃岐平野の気候に関係している。

イ 中国

ウ 四国



4

雨の量が少なくなり、稲などの育ちが悪くなる日照りの害を（ ）という。

かんがい
干害

5

讃岐平野さぬきでは、昔から水をたくわえておく（ ）池が多く作られてきました。

ため池

6

問5の池の中で、日本一大きい池は①というおぼろさんが整備した②池である。

①空海

②満濃まんのう

7

1978年に水不足を解消するため、讃岐平野さぬきに（ ）用水が引かれた。

香川

8

問7の用水は、四国三郎とよばれる（ ）川から引かれている。


吉野

9

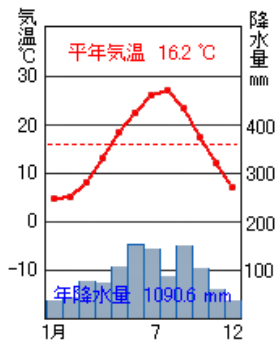
四国三郎とよばれる川は、①県から②県に流れている。

①高知

②徳島

10	<small>さぬき</small> 讃岐平野の海ぞいの地域で昔、（ ）をつくっていた。	塩田（塩）
11	香川県の県庁所在地を選べ。 （松江市 松山市 高松市 松本市）	高松市
12	香川県では、雨が少なくても育つ小麦を原料とする（ ）という食べ物が有名である。	<small>さぬき</small> 讃岐うどん
⇒イラストを参考に！ 		
13	<small>さぬき</small> 讃岐平野の気候を示しているグラフはアとイのうち、（ ）のグラフである。	ア

ア



イ

