

小5

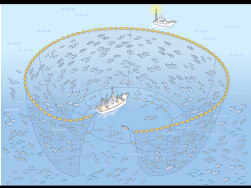

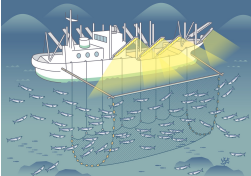
◆魚はどこから？◆


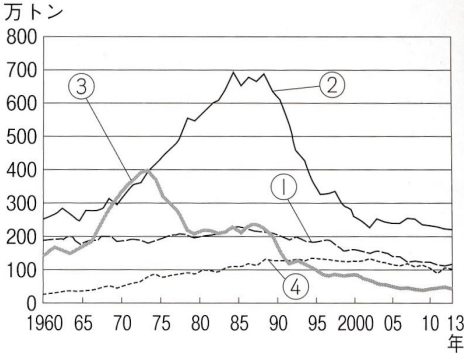
上巻1回

氏名

得点

各4点
100点

1	魚はかまぼこやちくわなどの（ ）製品にしても食べられる。		
2	親潮の（①）海流と、黒潮の日本海流の会 う（②）は良い漁場になる。	①	②
3	東シナ海は水深（①）mくらいの浅い海底の （②）が広がり、良い漁場になる。	①	②
	問4～5は、次の語句から選んで答えよ。 ア、釧路 <small>くしろ</small> イ、八戸 <small>はちのへ</small> ウ、銚子 <small>ちょうし</small> エ、焼津 <small>やいづ</small> オ、境港 <small>さかい</small>		
4	利根川河口には（①）漁港がある。かつおや まぐろの遠洋漁業が盛んなのは（②）漁港で ある。	①	②
5	かつては日本一の漁港で、たらなどが取れる のは（①）漁港である。日本海側を代表する 漁港は（②）漁港である。	①	②
	問6～9は絵を見て①に漁法の名前を書き、②に主にとれる魚を次の語句から選ん で答えよ。 ア、まぐろ イ、かつお ウ、さんま エ、いわし、さば		
6		①	②
7		①	②
8		①	②

9		①	②
<p>問10～13はAに漁業の種類を書き、Bに「漁業種類別の漁獲量」の表から数字の記号を選べ。</p>			
			
10	<p>大きな船を使い、数ヶ月～1年かかる遠くはなれた海で行う漁業である。</p>	A	B
11	<p>やや大きい船を使い、数日間かけて200kmくらいの海で行う漁業である。</p>	A	B
12	<p>小型船で、近くの海で日帰りで行う漁業である。</p>	A	B
13	<p>魚・貝・海藻などを人の力で育てて増やす漁業である。</p>	A	B
14	<p>1973年、中東の国々が、石油の価格を上げた（ ）によって、燃料を大量に使う漁業は打撃を受けた。</p>		
15	<p>1977年から多くの国々が自国の水産資源を守るため、沿岸から（ ）カイリ以内の海で、外国の漁業を制限するようになった。</p>		
16	<p>問15を（ ）水域といい、ここでは沿岸の国が水産資源や、海底にある資源を自分の国のものにする事ができる。</p>		
17	<p>工場などの排水で海水がよごれ、プランクトンが大量に発生して、海水が赤くそまったような状態になる現象を（ ）という。</p>		
18	<p>稚魚を放流し、自然の力で成長した魚がもどってきたところをとる漁業を（ ）という。</p>		

19	北海道のサロマ湖や、青森の陸奥湾で育てられている水産物は（ ）である。	
20	広島や、宮城でさかんに育てられている水産物は（ ）である。	
21	愛媛の宇和海、三重の志摩半島、長崎の大村湾で育てられている水産物は（ ）である。	
22	静岡の浜名湖や鹿児島などで育てられている水産物は（ ）である。稚魚をとってから育てるが、稚魚の不漁が続いている。	
23	漁獲量が世界一の国は（ ）である。	
24	魚市場などでは、買いたい人たちが値段をつけ、一番高い値段をつけた人に売る（ ）という方法が行われている。	
25	日本が輸入している水産物の中で、特に輸入額が大きいものを2つ選べ。 ア、いか イ、えび ウ、かに エ、さけ・ます	

小5

◆魚はどこから？◆

上巻1回


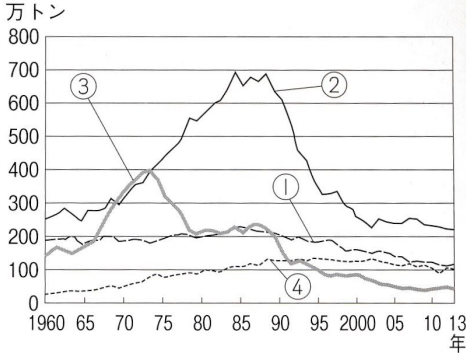
氏名

満点 とれ太

得点

各4点
100点

1	魚はかまぼこやちくわなどの（ ）製品にしても食べられる。	ね練り	
2	親潮の①海流と、黒潮の日本海流の会合②は良い漁場になる。	① ちしま 千島	② しょめ 潮目 (しおざかい 潮境)
3	東シナ海は水深① mくらいの浅い海底の②が広がり、良い漁場になる。	① 200	② たいりくだな 大陸棚
問4～5は、次の語句から選んで答えよ。 ア、釧路 <small>くしろ</small> イ、八戸 <small>はちのへ</small> ウ、銚子 <small>ちょうし</small> エ、焼津 <small>やいづ</small> オ、境港 <small>さかい</small>			
4	利根川河口には①漁港がある。かつおやまぐろの遠洋漁業が盛んなのは②漁港である。	① ウ	② エ
5	かつては日本一の漁港で、たらなどが取れるのは①漁港である。日本海側を代表する漁港は②漁港である。	① ア	② オ
問6～9は絵を見て①に漁法の名前を書き、②に主にとれる魚を次の語句から選んで答えよ。 ア、まぐろ イ、かつお ウ、さんま エ、いわし、さば			
6		① ままきあみ 巻きあみ	② エ
7		① いっぽんづ 一本釣り	② イ
8		① ぼううけ 棒受けあみ	② ウ

9		①はえなわ	②ア
<p>問10～13はAに漁業の種類を書き、Bに「漁業種類別の漁獲量」の表から数字の記号を選べ。</p>			
			
10	<p>大きな船を使い、数ヶ月～1年かかる遠くはなれた海で行う漁業である。</p>	<p>えんようぎょぎょう A 遠洋漁業</p>	B ③
11	<p>やや大きい船を使い、数日間かけて200kmくらいの海で行う漁業である。</p>	<p>おきあいぎょぎょう A 沖合漁業</p>	B ②
12	<p>小型船で、近くの海で日帰りで行う漁業である。</p>	<p>えんがんぎょぎょう A 沿岸漁業</p>	B ①
13	<p>魚・貝・海藻などを人の力で育てて増やす漁業である。</p>	<p>ようしよくぎょぎょう A 養殖漁業</p>	B ④
14	<p>1973年、中東の国々が、石油の価格を上げた（ ）によって、燃料を大量に使う漁業は打撃を受けた。</p>	<p>せきゆきき 石油危機（オイルショック）</p>	
15	<p>1977年から多くの国々が自国の水産資源を守るため、沿岸から（ ）カイリ以内の海で、外国の漁業を制限するようになった。</p>	<p>200（ちなみに200カイリは370km）</p>	
16	<p>問15を（ ）水域といい、ここでは沿岸の国が水産資源や、海底にある資源を自分の国のものにすることができる。</p>	<p>はいたてきけいざい 排他的経済</p>	
17	<p>工場などの排水で海水がよごれ、プランクトンが大量に発生して、海水が赤くそまったような状態になる現象を（ ）という。</p>	<p>あかしお 赤潮</p>	
18	<p>稚魚を放流し、自然の力で成長した魚がもどってきたところをとる漁業を（ ）という。</p>	<p>さいばいぎょぎょう 栽培漁業</p>	

19	北海道のサロマ湖や、青森の陸奥湾で育てられている水産物は（ ）である。	ほたて ^{がい} 貝
20	広島や、宮城でさかんに育てられている水産物は（ ）である。	かき
21	愛媛の宇和海、三重の志摩半島、長崎の大村湾で育てられている水産物は（ ）である。	しんじゆ 真珠
22	静岡の浜名湖や鹿児島などで育てられている水産物は（ ）である。稚魚をとってから育てるが、稚魚の不漁が続いている。	うなぎ
23	漁獲量が世界一の国は（ ）である。	ちゅうごく ^{ちゅうかじんみんきょうわこく} 中国（中華人民共和国）
24	魚市場などでは、買いたい人たちが値段をつけ、一番高い値段をつけた人に売る（ ）という方法が行われている。	せり
25	日本が輸入している水産物の中で、特に輸入額が大きいものを2つ選べ。 ア、いか イ、えび ウ、かに エ、さけ・ます	イ・エ（完答）