

# 小5


## ◆日本のすがた◆

上巻9回

氏名

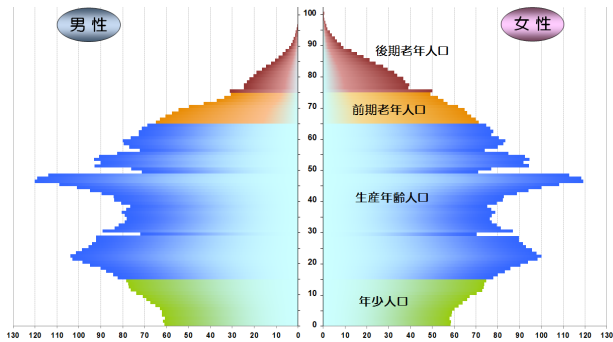
得点

各4点

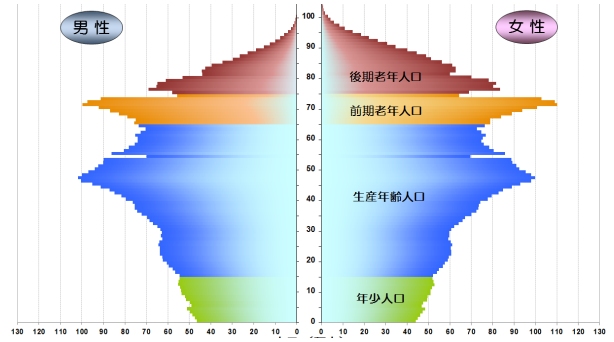
1	<p>日本固有の領土であるが、ロシアにより不法<sup>ふほう</sup>占拠<sup>せんきょ</sup>されている「北方領土」を記号で4島すべて答えよ。</p> 	ア	イ
		ウ	エ
<p>記号選択肢</p> <p>A 択捉島<sup>えとろふ</sup></p> <p>B 国後島<sup>くなしり</sup></p> <p>C 歯舞諸島<sup>はぼまい</sup></p> <p>D 色丹島<sup>しこたん</sup></p>			
2	<p>日本固有の領土であるが、韓国により不法<sup>ふほう</sup>占拠<sup>せんきょ</sup>されている島は何というか。その島は島根県に属している。</p>		
3	<p>日本固有の領土であるが、中国や台湾などが自分たちの領土と主張している島々は何というか。その島々は沖縄県に属している。</p>		
4	<p>日本の時刻のもととなる経線を(①)といい、兵庫県明石市などを通る東経(②)度を通過する。</p>	①	②
5	<p>日本のおよそ45倍の国土面積を持つ世界一広い国の名を答えよ。</p>		
6	<p>人口14億人以上で世界一人口の多い国は(①)だったが、2023年に(②)という国に抜かれた。</p>	①	②
7	<p>世界の人口は2022年に(①)億人をこえたとされ、地域では特に(②)での人口増加が目立っている。</p>	①	②
8	<p>日本の人口はどのくらいか。(2021年)</p>	約	
9	<p>日本の国土面積は(北方領土も含め)約何km<sup>2</sup>か。</p>	約	

10	日本は多くの島々から成り立っている。その数はどのくらいか、記号で答えよ。 ア、14125 イ、3125 ウ、6125 エ、725		
11	0度の経線をあらわす線を何というか。		
12	日本列島を東西に分ける大きな溝を（ ）という。この西の端は新潟県糸魚川市から静岡市を結んでいる。		
13	排他的経済水域よりも、外側の海を何というか。		
14	日本の東西南北の端に位置する島の名を記号で答えよ。 ア、与那国島 イ、南鳥島 ウ、択捉島 エ、沖ノ鳥島	北の端	南の端
		東の端	西の端
15	1kmあたりの人口のことを何というか。		
16	四国を1とした時、四国：九州：北海道：本州の面積の比率はどうなるか。	:	:
17	農村などで若い人などの人口が減り、くらしが成り立ちにくくなることを何というか。		
18	過密化によって引き起こされる都市問題の例をひとつあげよ。		
19	ア、第一次産業 イ、第二次産業 ウ、第三次産業を日本の労働者人口の多い順に並びかえよ。	⇒	⇒
20	商業・サービス業などは第何次産業にあてはまるか。		
21	65歳以上の高齢者が21%以上をしめて、その割合が今後も増えると考えられている社会を何というか。		
22	国民の性別・生年月日・職業などについて、国が5年に一度、10月に行う調査は何というか。		

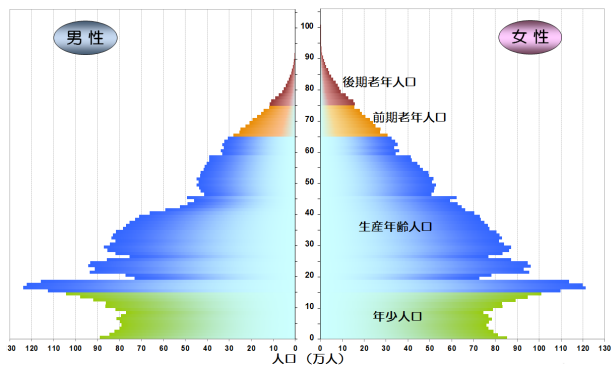
<b>23</b>	多くの子供たちが生まれた時期（1947～49と1971～74）を何というか。	
<b>24</b>	1950年代半ば～1970年代初めにかけて、日本経済が大きく発展し、多くの人口が農村から都市に移転した。この時期を何というか。	
<b>25</b>	下のグラフは日本の1965年、1995年、2020年の人口ピラミッドである。古い順に記号で並び替えよ。	⇒            ⇒



ア



イ



ウ

出典：国立社会保障・人口問題研究所ホームページ (<http://www.ipss.go.jp/>)  
 出典：「日本の将来推計人口（平成29年推計）」（国立社会保障・人口問題研究所）を加工して作成しました。

# 小5

## ◆日本のすがた◆


上巻9回

氏名

満点 とれ太

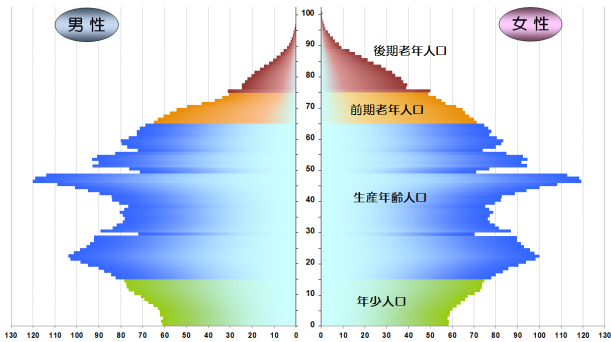
得点

各4点

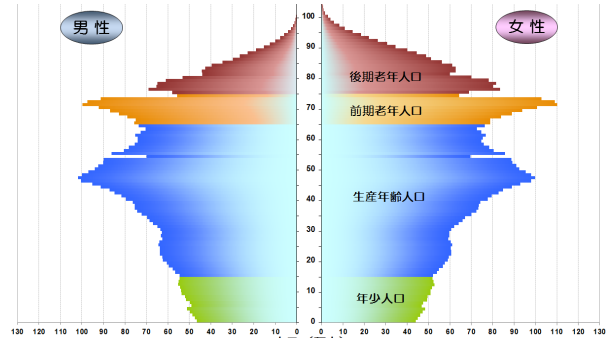
1	日本固有の領土であるが、ロシアにより不法占拠されている「北方領土」を記号で4島すべて答えよ。	ア C	イ D
		ウ B	エ A
		記号選択肢 A 択捉島 B 国後島 C 歯舞諸島 D 色丹島	
2	日本固有の領土であるが、韓国により不法占拠されている島は何というか。その島は島根県に属している。	たけしま 竹島	
3	日本固有の領土であるが、中国や台湾などが自分たちの領土と主張している島々は何というか。その島々は沖縄県に属している。	せんかくしやとう 尖閣諸島	
4	日本の時刻のもととなる経線を(①)といい、兵庫県明石市などを通る東経(②)度を通過する。	①日本標準時子午線	②135
5	日本のおよそ45倍の国土面積を持つ世界一広い国の名を答えよ。	ロシア	
6	人口14億人以上で世界一人口の多い国は(①)だったが、2023年に(②)という国に抜かれた。	①中国	②インド
7	世界の人口は2022年に(①)億人をこえたと言われ、地域では特に(②)での人口増加が目立っている。	①80	②アジア
8	日本の人口はどのくらいか。(2021年)	約1億2500万人(2021年)	
9	日本の国土面積は(北方領土も含め)約何km <sup>2</sup> か。	約37.8万(38万)km <sup>2</sup>	

10	日本は多くの島々から成り立っている。その数はどのくらいか、記号で答えよ。 ア、14125 イ、3125 ウ、6125 エ、725	ア	
11	0度の経線をあらわす線を何というか。	ほんしょし ごせん 本初子午線 (イギリスのロンドン、 旧グリニッジ天文台跡地)	
12	日本列島を東西に分ける大きな溝を ( ) という。この西の端は新潟県糸魚川市から静岡市を結んでいる。	フォッサマグナ	
13	排他的経済水域よりも、外側の海を何というか。	こうかい 公海	
14	日本の東西南北の端に位置する島の名を記号で答えよ。 ア、与那国島 イ、南鳥島 ウ、択捉島 エ、沖ノ鳥島	北の端 ウ	南の端 エ
		東の端 イ	西の端 ア
15	1kmあたりの人口のことを何というか。	じんこうみつど 人口密度	
16	四国を1とした時、四国：九州：北海道：本州の面積の比率はどうなるか。	1 : 2 : 4 : 12	
17	農村などで若い人などの人口が減り、くらしが成り立ちにくくなることを何というか。	かそ 過疎	
18	過密化によって引き起こされる都市問題の例をひとつあげよ。	そうおん じゅうたくぶそく 騒音、住宅不足など	
19	ア、第一次産業 イ、第二次産業 ウ、第三次産業を日本の労働者人口の多い順に並びかえよ。	ウ⇒イ⇒ア (第三次産業が70%以上)	
20	商業・サービス業などは第何次産業にあてはまるか。	だいさん じさんぎょう 第三次産業	
21	65歳以上の高齢者が21%以上をしめて、その割合が今後も増えると考えられている社会を何というか。	ちようこうれいしゃかい 超高齢社会	
22	国民の性別・生年月日・職業などについて、国が5年に一度、10月に行う調査は何というか。	こくせいちようさ 国勢調査(西暦で5の倍数の年に実施。総務省という役所が調査する)	

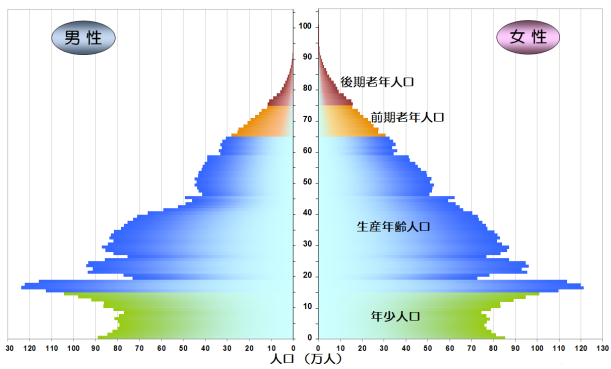
23	多くの子供たちが生まれた時期（1947～49と1971～74）を何というか。	ベビーブーム
24	1950年代半ば～1970年代初めにかけて、日本経済が大きく発展し、多くの人口が農村から都市に移転した。この時期を何というか。	こうどけいざいせいちょう 高度経済成長
25	下のグラフは日本の1965年、1995年、2020年の人口ピラミッドである。古い順に記号で並び替えよ。	ウ⇒ア⇒イ（突き出た部分が「第一次ベビーブーム世代」で、この世代の加齢を見ていけばわかる）



ア



イ



ウ

出典：国立社会保障・人口問題研究所ホームページ (<http://www.ipss.go.jp/>)  
 出典：「日本の将来推計人口（平成29年推計）」（国立社会保障・人口問題研究所）を加工して作成しました。