

# 小5

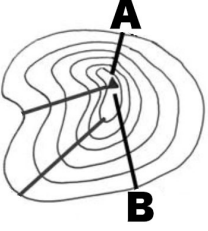
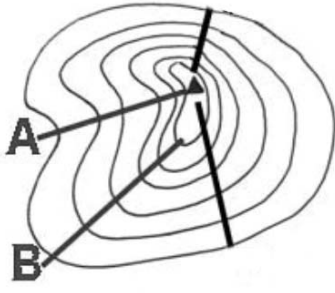
## ◆日本の主な都市、地形図の読み方◆

上巻18回

















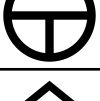








氏名

得点

1	北海道地方と東北地方の政令指定都市をすべて答えよ。	
2	関東地方の政令指定都市を5つすべて答えよ。	
3	中部地方の政令指定都市を4つすべて答えよ。	
4	近畿地方の政令指定都市を4つすべて答えよ。	
5	中国地方の政令指定都市を2つすべて答えよ。	
6	九州地方の政令指定都市を3つすべて答えよ。	
7	人口100万人を超えながら、県庁所在地でないのは（ ）という市だけである。	
8	人口の多い順に並び替えよ。 ア、大阪市 イ、東京23区 ウ、札幌市 エ、名古屋市 オ、横浜市	→ → → →
9	府県内に政令指定都市が2つ以上ある府県をすべて答えよ。	
10	本州の日本海側で唯一の政令指定都市を答えよ。	
11	2012年に指定された、最も新しい政令指定都市を答えよ。	
12	宮城県仙台市は緑が多いことから（ ）と呼ばれる。	

13	東京都と神奈川県の間になる川は（ ）である。	
14	日本一面積が広く、東京都とほぼ同じ面積の市は何県何市か。	県 市
15	国土を測量して地図を作る機関を（ ）という。国土交通省という国の役所のもとに置かれている。	
16	 <p>AとBの登山コースではどちらが安全に登れるか。</p>	
17	25000分の1の地図で、3cmの長さがあった時、実際の長さは何mか。	
18	50000分の1の地図で、4cmの長さがあった時、実際の長さは何kmか。	
19	実際には500mある長さが、1cmで表されている時、この地図の縮尺は何分の1か。	
20		<p>山頂から凸部となるBの線は      (① ) といい、山地の高い部分の連なりである。山頂から凹部となるAの線は      (② ) といい、①にはさまれた低い部分である。</p>

地図記号が何をあらわすか答えなさい。

1			15		
2			16		
3			17		
4			18		
5			19		
6			20		
7			21		
8			22		
9			23		
10			24		
11			25		
12					
13					
14					

# 小5

## ◆日本の主な都市、地形図の読み方◆

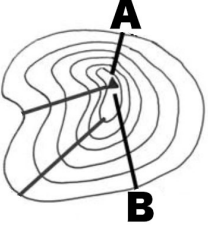
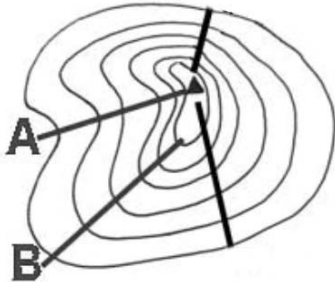
上巻18回

氏名

満点 とれ太

得点

1	北海道地方と東北地方の政令指定都市をすべて答えよ。	さっぽろし せんだいし 札幌市、仙台市
2	関東地方の政令指定都市を5つすべて答えよ。	よこはまし かわさきし さがみはらし 横浜市、川崎市、相模原市、 さいたまし ちばし さいたま市、千葉市
3	中部地方の政令指定都市を4つすべて答えよ。	なごやし はまつし 名古屋市、浜松市、 しずおかし にいがたし 静岡市、新潟市
4	近畿地方の政令指定都市を4つすべて答えよ。	おおさかし さかいし きょうとし 大阪市、堺市、京都市、 こうべし 神戸市
5	中国地方の政令指定都市を2つすべて答えよ。	ひろしまし おかやまし 広島市、岡山市
6	九州地方の政令指定都市を3つすべて答えよ。	ふくおかし きたきゅうしゅうし くまもとし 福岡市、北九州市、熊本市
7	人口100万人を超えながら、県庁所在地でないのは（ ）という市だけである。	かわさきし 川崎市
8	人口の多い順に並び替えよ。 ア、大阪市 イ、東京23区 ウ、札幌市 エ、名古屋市 オ、横浜市	イ→オ→ア→エ→ウ
9	府県内に政令指定都市が2つ以上ある府県をすべて答えよ。	かながわけん しずおかけん 神奈川県、静岡県、 おおさかふ ふくおかけん 大阪府、福岡県
10	本州の日本海側で唯一の政令指定都市を答えよ。	にいがたし 新潟市
11	2012年に指定された、最も新しい政令指定都市を答えよ。	くまもとし 熊本市
12	宮城県仙台市は緑が多いことから（ ）と呼ばれる。	もり みやこ 杜の都

13	東京都と神奈川県の間になる川は（ ）である。	た ま が わ 多摩川
14	日本一面積が広く、東京都とほぼ同じ面積の市は何県何市か。	ぎ ふ けん た か や ま し 岐阜県高山市
15	国土を測量して地図を作る機関を（ ）という。国土交通省という国の役所のもとに置かれている。	こ く ど ち り い ん 国土地理院
16	 <p>AとBの登山コースではどちらが安全に登れるか。</p>	B (等高線の間かくが広い方がゆるやか)
17	25000分の1の地図で、3cmの長さがあった時、実際の長さは何mか。	$25000 \times 3 = 75000 \text{ cm} = 750 \text{ m}$
18	50000分の1の地図で、4cmの長さがあった時、実際の長さは何kmか。	$50000 \times 4 = 200000 \text{ cm} = 2000 \text{ m} = 2 \text{ km}$
19	実際には500mある長さが、1cmで表されている時、この地図の縮尺は何分の1か。	500mは50000cmだから50000分の1
20		山頂から凸部となるBの線は (① <sup>おね</sup> 尾根) といい、山地の高い部分の連なりである。山頂から凹部となるAの線は (② <sup>たに</sup> 谷) といい、①にはさまれた低い部分である。

地図記号が何をあらわすか答えなさい。

1		しやくしよ くやくしよ 市役所・区役所	15		はたけ 畑
2		ちようそんやくば 町 村役場	16		かじゆえん ばたけ 果樹園 (くだもの畑)
3		びよういん 病院	17		た 田
4		ほけんじよ 保健所	18		しんようじゆりん 針葉樹林
5		しょうぼうしよ 消防署	19		こうようじゆりん 広葉樹林
6		としよかん 図書館	20		ちやばたけ 茶畑
7		しょうちゆうがっこう 小 中学校	21		こうばん 交番
8		こうとうがっこう 高等学校	22		けいさつしよ 警察署
9		ゆうびんきょく 郵便局	23		はくぶつかん びじゆつかん 博物館・美術館
10		ろうじん 老人ホーム	24		さいばんしよ 裁判所
11		じんじゃ 神社	25		ふうりょくはつてん ふうしゃ 風力発電の風車
12		じいん 寺院			
13		こうじょう 工場			
14		はつてんしよ 発電所			