

小6

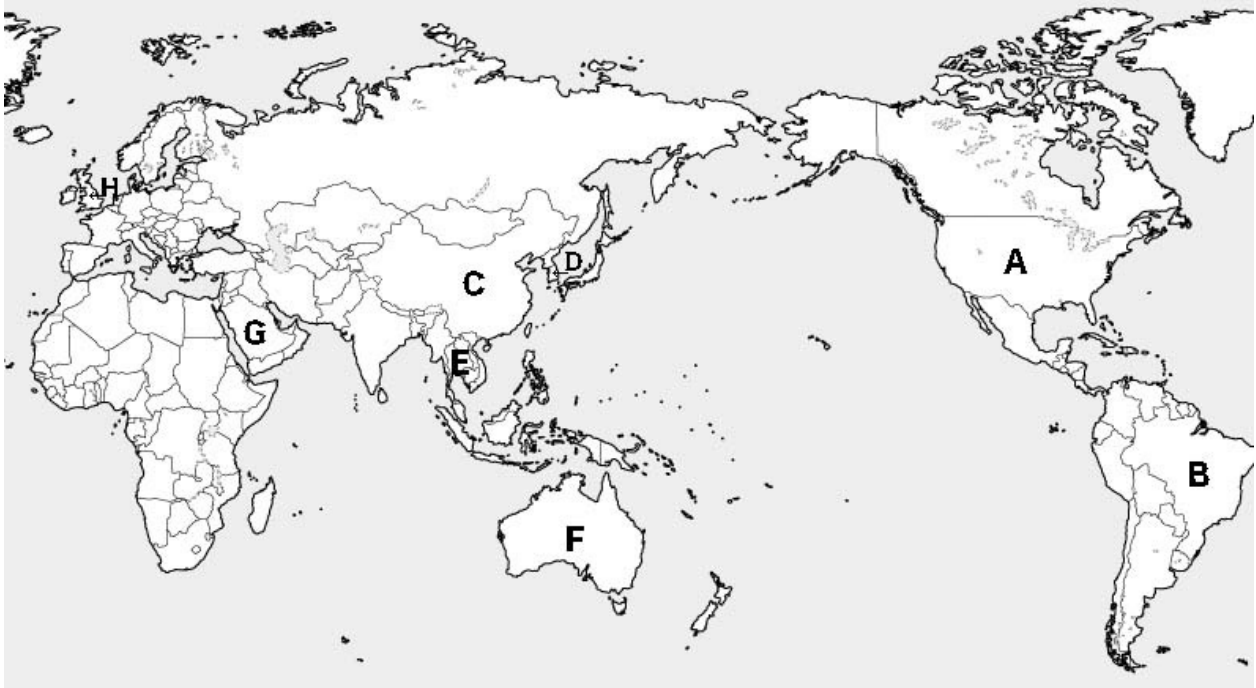
◆世界のすがた◆

上巻10回

氏名

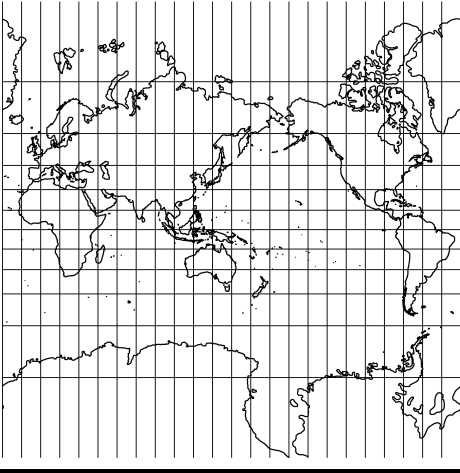
得点

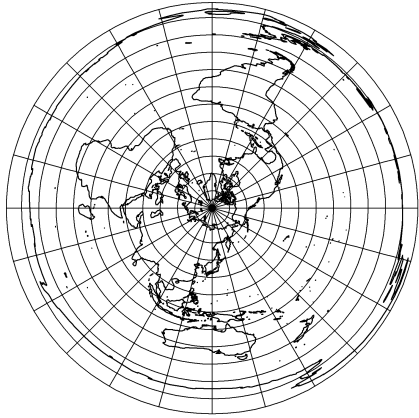
各10点
300点



問1～7の説明を読み、国の名前を答えよ。またその国の場所を上地図から選び、記号で答えよ。

1	人口が約14億人で世界一多く、漢字や紙を日本に伝えた国。著しい経済発展の反面、環境汚染や経済格差などの問題もある。人口を抑えるため、一人っ子政策をしていたが廃止した。	国名	場所
2	生活習慣が日本と似ている国。この半島から仏教が伝えられた。近代の一時期、日本と併合したこともある。首都はソウル。	国名	場所
3	日本の真南に位置し、季節も逆。首都はキャンベラだが、中心都市はシドニー。元はイギリス植民地で、言語は英語、国旗もイギリスのユニオンジャックに似ている。	国名	場所
4	東南アジアにある仏教国で、男子は一生に一度仏教の修行をする。一年中気温が高く、米の輸出は世界一。首都はバンコク。	国名	場所
5	現代日本の政治経済文化に大きく影響を与えている。日本に軍用基地をおく。首都はワシントンDCで大統領官邸のホワイトハウスがある。	国名	場所

6	南米大陸にある。コーヒー豆・鉄鉱石など資源大国。明治以降多くの日本人が移民している国。ポルトガル語を使う。カーニバルが有名。	国名	場所
7	国土の大部分が砂漠で石油の輸出世界一。イスラム教がさかんで、メッカはムハンマドの生誕地。男女の別行動など、宗教を厳格に守る国。	国名	場所
8	オーストラリアの先住民族であり、長い間白人によって差別されてきた民族は何か。		
9	朝鮮の女性の伝統的な衣装を (①) という。朝鮮独自の文字で、「ㄱㅇ」のような文字を (②) という。	①	②
10	経度0度の線を (①) という。またこの0度の線が通るのが旧グリニッジ天文台のある (②) という国である。		
11	ほぼ経度180度に沿った線で、西から東へこえる時は日付を1日前へ戻し、東から西へこえる時は日付を1日進める線を何というか。		
12	日本の時刻のもととなる経線を (①) 線といい、兵庫県明石市などを通る東経 (②) 度を通過する。	①	②
13	日本が1月1日午前10時の時に、アメリカのサンフランシスコ (西経120°) での日時を答えよ。	月 日 時	
14		①	
	<p>①上の図法の名前を答えよ。</p> <p>②上の図法の説明で誤っているものを記号で選び答えよ。</p> <p>ア、角度が正しく、航海図に利用される。</p> <p>イ、緯線と経線が直角に交わるように描かれる。</p> <p>ウ、面積は正しく表せず、緯度が低いほど大きく描かれてしまう。</p>	②	

15		①	
	<p>上の図法の名前は (①) である。中心からの距離と方位が正しく表され、(②) として利用される。</p>	②	
16	<p>東南アジアの平和と安全を守るため作られた地域連合を () といい、現在10か国が加盟している。</p>		
17	<p>キリスト教の中では、世界最小の国の () を中心とするカトリックと、そこから分かれたプロテスタントが、欧米中心に信仰されている。</p>		
18	<p>紀元前5世紀頃インドで (①) が始めた宗教が仏教で、アジアに信者が多い。7世紀頃に (②) が始めた宗教がイスラム教で、中東に信者が多い。</p>	①	②
19	<p>イギリスで始められた環境保護の方法で、貴重な自然環境を保護するため、住民がその土地を買い取るにより保存していく方法は何か。</p>		
20	<p>水鳥の生息地として重要な湿地と、そこにすむ野生動物を保護するための条約を何というか。釧路湿原や琵琶湖、藤前干潟（名古屋）などが登録されている。</p>		
21	<p>石油・石炭などの (①) 燃料を燃やすことでエネルギーが得られるが、大量の二酸化炭素が発生し、温暖化の原因となる (②) というのはたらきが生まれる。</p>	①	②
22	<p>過度の放牧・伐採などが原因で、土地が乾燥し動植物が育たなくなることを何というか。</p>		
23	<p>自動車や工場からの硫酸化物などを元にした物質を含む雨を何というか。</p>		
24	<p>1972年にスウェーデンの () で、国連人間環境会議が開かれた。</p>		

25	問24の会議では人間環境宣言が採択されたが、そのもととなったスローガン（考え方）を答えよ。		
26	1992年にブラジルの（①）で開かれた国連環境開発会議の別名は（②）である。	①	②
27	2015年の国連サミットで決められた国際社会共通の17の目標を何というか。この目標は2030年までに達成することを目指して採択された。		
28	1997年の地球温暖化防止の会議で採択された文書で、先進国の温室効果ガス削減目標を定めた文書を何というか。		
29	問28に代わって2016年から発効した温暖化防止の新国際ルールで、世界の平均気温の上昇を産業革命前と比べて、2度未満に抑えることを目標とするものは何か。		
30	温室効果ガスについて、排出された量から森林などが吸収した量を差し引いて、全体として排出量をゼロにする考え方を何というか。		

小6

◆世界のすがた◆

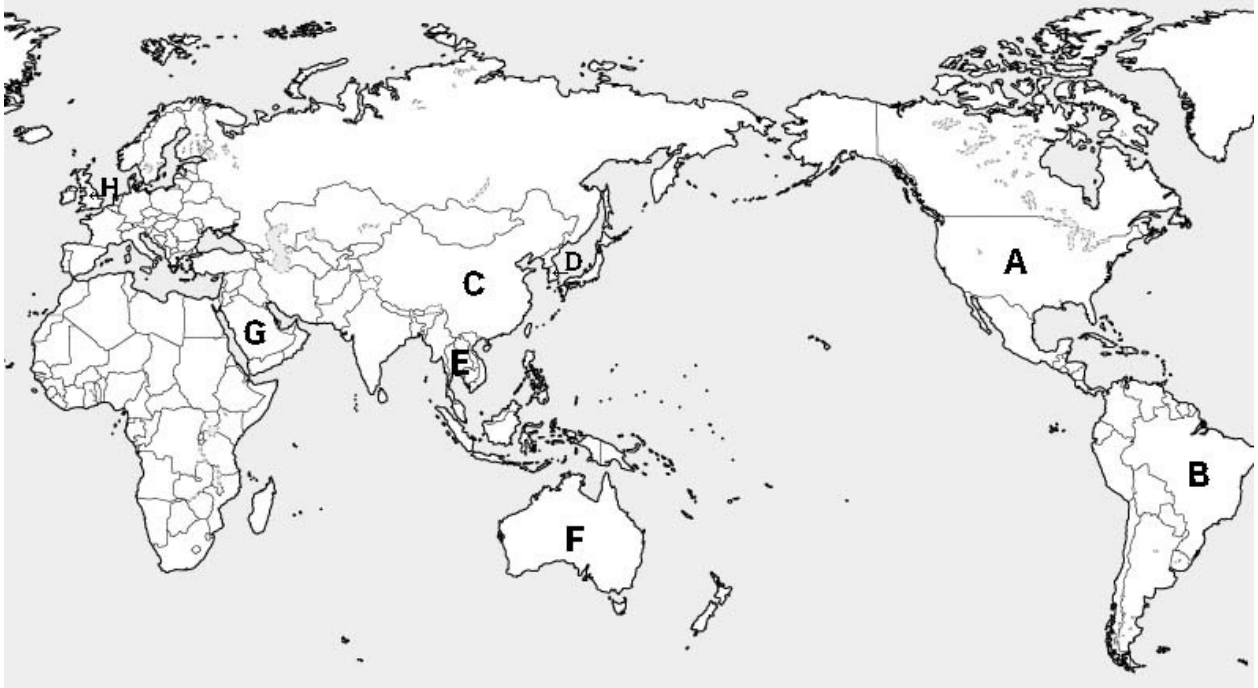
上巻10回

氏名

満点 とれ太

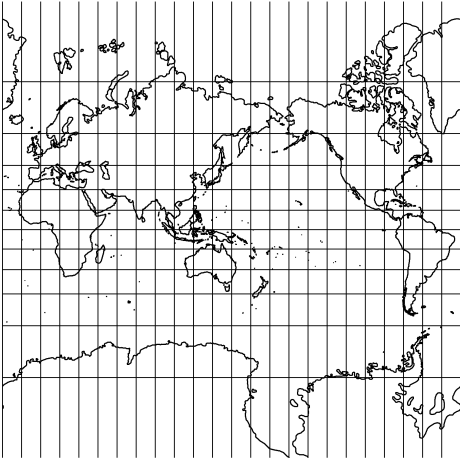
得点

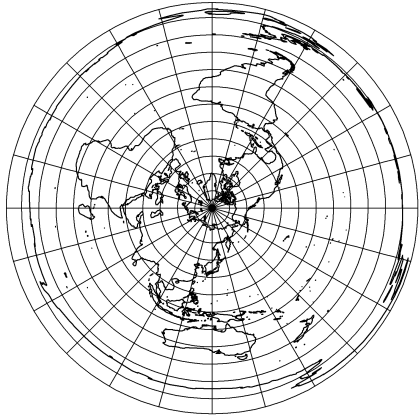
各10点
300点



問1～7の説明を読み、国の名前を答えよ。またその国の場所を上地図から選び、記号で答えよ。

1	人口が約14億人で世界一多く、漢字や紙を日本に伝えた国。著しい経済発展の反面、環境汚染や経済格差などの問題もある。人口を抑えるため、一人っ子政策をしていたが廃止した。	中華人民共和国	C
2	生活習慣が日本と似ている国。この半島から仏教が伝えられた。近代の一時期、日本と併合したこともある。首都はソウル。	大韓民国	D
3	日本の真南に位置し、季節も逆。首都はキャンベラだが、中心都市はシドニー。元はイギリス植民地で、言語は英語、国旗もイギリスのユニオンジャックに似ている。	オーストラリア	F
4	東南アジアにある仏教国で、男子は一生に一度仏教の修行をする。一年中気温が高く、米の輸出は世界一。首都はバンコク。	タイ	E
5	現代日本の政治経済文化に大きく影響を与えている。日本に軍用基地をおく。首都はワシントンDCで大統領官邸のホワイトハウスがある。	アメリカ合衆国	A

6	南米大陸にある。コーヒー豆・鉄鉱石など資源大国。明治以降多くの日本人が移民している国。ポルトガル語を使う。カーニバルが有名。	ブラジル	B
7	国土の大部分が砂漠で石油の輸出世界一。イスラム教がさかんで、メッカはムハンマドの生誕地。男女の別行動など、宗教を厳格に守る国。	サウジアラビア	G
8	オーストラリアの先住民族であり、長い間白人によって差別されてきた民族は何か。	アボリジニー	
9	朝鮮の女性の伝統的な衣装を(①)という。朝鮮独自の文字で、「ㄱㅇ」のような文字を(②)という。	①チマ・チョゴリ	②ハングル
10	経度0度の線を(①)という。またこの0度の線が通るのが旧グリニッジ天文台のある(②)という国である。	①本初子午線	②イギリス
11	ほぼ経度180度に沿った線で、西から東へこえる時は日付を1日前へ戻し、東から西へこえる時は日付を1日進める線を何というか。	日付変更線	
12	日本の時刻のもととなる経線を(①)線といい、兵庫県明石市などを通る東経(②)度を通過する。	①日本標準時子午	②135
13	日本が1月1日午前10時の時に、アメリカのサンフランシスコ(西経120°)での日時を答えよ。	12月31日午後5時	
14		①メルカトル図法	
	<p>①上の図法の名前を答えよ。</p> <p>②上の図法の説明で誤っているものを記号で選び答えよ。</p> <p>ア、角度が正しく、航海図に利用される。</p> <p>イ、緯線と経線が直角に交わるように描かれる。</p> <p>ウ、面積は正しく表せず、緯度が低いほど大きく描かれてしまう。</p>	②ウ(緯度が高いほど面積が実際より大きく表されてしまう。グリーンランドがオーストラリア大陸より大きくなってしまふことは有名)	

15		<small>せいぎょほういずほう</small> ①正距方位図法	
上の図法の名前は (①) である。中心からの距離と方位が正しく表され、(②) として利用される。		②航空図	
16	東南アジアの平和と安全を守るため作られた地域連合を () といい、現在10か国が加盟している。	東南アジア諸国連合 (ASEANアセアン)	
17	キリスト教の中では、世界最小の国の () を中心とするカトリックと、そこから分かれたプロテスタントが、欧米中心に信仰されている。	バチカン市国	
18	紀元前5世紀頃インドで (①) が始めた宗教が仏教で、アジアに信者が多い。7世紀頃に (②) が始めた宗教がイスラム教で、中東に信者が多い。	①シャカ	②ムハンマド
19	イギリスで始められた環境保護の方法で、貴重な自然環境を保護するため、住民がその土地を買い取るにより保存していく方法は何か。	ナショナルトラスト	
20	水鳥の生息地として重要な湿地と、そこにすむ野生動物を保護するための条約を何というか。釧路湿原や琵琶湖、藤前干潟 (名古屋) などが登録されている。	ラムサール条約	
21	石油・石炭などの (①) 燃料を燃やすことでエネルギーが得られるが、大量の二酸化炭素が発生し、温暖化の原因となる (②) というのはたらきが生まれる。	①化石	②温室効果
22	過度の放牧・伐採などが原因で、土地が乾燥し動植物が育たなくなることを何というか。	砂漠化	
23	自動車や工場からの硫酸化物などを元にした物質を含む雨を何というか。	酸性雨	
24	1972年にスウェーデンの () で、国連人間環境会議が開かれた。	スtockホルム	

25	問24の会議では人間環境宣言が採択されたが、そのもととなったスローガン（考え方）を答えよ。	かけがえのない地球	
26	1992年にブラジルの（①）で開かれた国連環境開発会議の別名は（②）である。	①リオデジャネイロ	②地球サミット
27	2015年の国連サミットで決められた国際社会共通の17の目標を何というか。この目標は2030年までに達成することを目指して採択された。	SDGs（持続可能な開発目標）	
28	1997年の地球温暖化防止の会議で採択された文書で、先進国の温室効果ガス削減目標を定めた文書を何というか。	京都議定書	
29	問28に代わって2016年から発効した温暖化防止の新国際ルールで、世界の平均気温の上昇を産業革命前と比べて、2度未満に抑えることを目標とするものは何か。	パリ協定	
30	温室効果ガスについて、排出された量から森林などが吸収した量を差し引いて、全体として排出量をゼロにする考え方を何というか。	カーボンニュートラル	