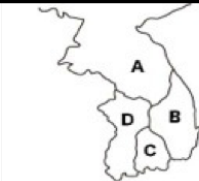



氏名

得点

1	日本で最初の仏教文化である。法隆寺が代表的な建築物。遠くインドやギリシャなどの文化の影響を受けている。	文化
2	唐の初期の文化の影響を受けている。7世紀の後半の律令国家の成立期にあたる文化。高松塚古墳の壁画や薬師寺などが有名である。	文化
3	遣唐使によってもたらされた唐の文化や仏教の影響が強い、貴族中心の文化である。正倉院や万葉集などが有名。	文化
4	日本の国土や生活にあった貴族中心の文化である。摂関政治のころ栄えた文化。かな文字で書かれた源氏物語や枕草子などが有名。	文化
5	武家と公家の文化がとけあった禅宗の影響が強い文化である。足利義満のころの文化。金閣や能楽が代表的である。	文化
6	武家と公家の文化がとけあった禅宗の影響が強い文化である。足利義政のころの文化。銀閣や水墨画が代表的である。	文化
7	戦国大名や大商人がつくり出した豪華で雄大な文化である。仏教の影響が薄く、南蛮文化の影響を受けている。安土城や姫路城が代表的。	文化
8	人情味豊かな町人中心の文化である。江戸時代5代将軍の時代に、商業の発達を背景に上方中心に栄えた。	文化
9	19世紀初頭に江戸中心に栄えた文化である。こっけいや皮肉を楽しむ町人中心の文化である。	文化
10	次の語を（使われ始めた）時代順に並びかえよ。ア、銅鐸 イ、土偶 ウ、埴輪 エ、打製石器	→ → →
11	弥生時代の古墳を2つ選べ。 ア、吉野ヶ里遺跡 イ、三内丸山遺跡 ウ、登呂遺跡 エ、岩宿遺跡	
12	聖武天皇が大仏殿を建立したのは(①)寺で、鑑真が来日後に奈良に開いたのは(②)寺である。	①
		②

13	正倉院は三角柱の木材を組んだ(①)造である。平安貴族の邸宅の建築様式は(②)造である。	①	②	
14	平安時代の浄土教建築は、宇治に(①)が造られ、平泉に(②)が造られた。 ア、中尊寺 イ、清水寺 ウ、平等院	①	②	
15	臨済宗や曹洞宗など座禅を組む宗派を(①)という。臨済宗を開いた(②)は宋に渡り、修行した。また茶の種子を持ち返ったとされる。	①	②	
16	鎌倉新仏教で、開いた人物と宗派が違うものを記号で答えよ。 ア、法然=浄土宗 イ、親鸞=浄土真宗 ウ、一遍=曹洞宗 エ、日蓮=法華宗			
17	鎌倉時代の国宝・東大寺南大門金剛力士像は()と快慶によって造られた。			
18	次の作品を時代順に並びかえよ。 ア、平家物語 イ、おくのほそ道 ウ、古今和歌集 エ、万葉集	→	→	→
19	次の建築を最初に完成した順に並びかえよ。 ア、平等院鳳凰堂 イ、日光東照宮 ウ、唐招提寺 エ、鹿苑寺金閣	→	→	→
20	次の作品を時代順に並びかえよ。 ア、見返り美人図 イ、秋冬山水図(水墨画) ウ、源氏物語絵巻 エ、唐獅子図屏風	→	→	→
21	元禄文化の人物でないものを記号で答えよ。 ア、近松門左衛門 イ、十返舎一九 ウ、松尾芭蕉 エ、井原西鶴			
22	『富嶽三十六景』の作者は(①)であり、『東海道五十三次』の作者は(②)である。	①	②	
23	福岡平野にあった奴国の王は中国に使いを送り、金印を授けられた。その時の中国の王朝名は何か。			
24	邪馬台国の卑弥呼は中国に使いを送った。その時の中国の王朝名は何か。			
25	聖徳太子は中国と対等の立場で国交を開こうとして、小野妹子を使いに送った。その時の中国の王朝名は何か。			

26	<p>右の地図は古代の朝鮮半島の国々である。A～Dの国々の名前を記号で答えよ。</p> <p>ア、百済 イ、加羅（伽耶） ウ、新羅 エ、高句麗</p>			
		A	B	C
		D		
27	<p>日本は663年に、唐と新羅の連合軍に (①) という戦いで敗れた。その後、中大兄皇子は (②) で即位し、天智天皇となった。</p>	①		②
28	<p>阿倍仲麻呂は中国に渡ったが、ついに帰国できなかった。逆に鑑真は何度も日本に渡ろうとして苦心した。その時の中国の王朝名は何か。</p>			
29	<p>平清盛は大輪田泊という港で中国と貿易をおこなった。その時の中国の王朝名は何か。</p>			
30	<p>元寇で、1回目の1274年の戦いを (①) の役、2回目の1281年の戦いを (②) の役という。</p>	①		②
31	<p>フビライ=ハンは朝鮮半島の () という国を征服した後、日本に攻めてきた。</p>			
32	<p>明は (①) の取り締まりを条件に室町幕府に貿易を認めた。①と区別するため貿易船に (②) という合い札を用いた。</p>	①		②
33	<p>(○か×か) 足利義満は明と対等の立場で貿易をおこなった。</p>			
34	<p>朝鮮出兵で、1回目の1592年の戦いを (①) の役、2回目の1597年の戦いを (②) の役という。</p>	①		②
35	<p>豊臣秀吉は朝鮮出兵の際に、朝鮮の援軍の中国とも戦った。その時の中国の王朝名は何か。</p>			
36	<p>江戸初期まで行われた東南アジアとの貿易を (①) 貿易という。またこの貿易が行われた結果、東南アジアの各地に (②) 町がつけられた。</p>	①		②
37	<p>(○か×か) 江戸時代、清との間には正式な国交がなかったが、朝鮮との間には国交があった。</p>			

38	江戸時代、アイヌ民族との交易の窓口となったのは蝦夷地の(①)藩で、琉球王国を支配し交易の窓口となったのは(②)藩である。	①	②
39	江戸時代に朝鮮との窓口となったのは(①)藩の宗氏であり、将軍の代わりに朝鮮から来日した使節団を(②)という。	①	②
40	(○か×か) 1853年にペリーは4隻の軍艦で太平洋を横断して浦賀に来航し、開国を求めた。		
41	鎖国していた日本を開国させた国は(①)であり、鎖国していた朝鮮を開国させた国は(②)である。	①	②
42	(○か×か) 日中戦争は、当時の中国の首都である北京郊外で日中両軍が衝突したことにより始まった。		
	問43~49の文章の説明する国の名前を答えよ。またその国の場所を地図から選んで記号で答えよ。		
43	1549年に日本にキリスト教を初めて伝えた宣教師の出身の国。南蛮貿易をおこなった。1624年に日本への来航を禁止された国。	国名	場所
44	出島で貿易をおこなった国。この国の「ターヘルアナムトミア」という本から「解体新書」が翻訳された。	国名	場所
45	幕末に薩摩藩と戦争をした。ロシアの南下政策に対抗して、1902年に日本と同盟を組んだ。	国名	場所
46	カルタ、コンペイトウ、タバコ、パンはこの国の言葉。1543年に鉄砲を伝えた国。1639年に日本への来航を禁止された国。	国名	場所
47	マルコ=ポーロはこの国のベネツィアの商人だった。第二次大戦の時は日本と同盟を結んだ。	国名	場所
48	大日本帝国憲法はこの国の憲法を参考にした。第一次大戦では日本と戦い、第二次大戦の時は日本と同盟を結んだ。	国名	場所
49	富岡製糸場はこの国から技術指導を受けた。日清戦争の後にロシアと三国干渉をおこなった。第一次大戦後の講和会議がこの国で開かれた。	国名	場所

氏名


満点 とれ太

得点

1	日本で最初の仏教文化である。法隆寺が代表的な建築物。遠くインドやギリシャなどの文化の影響を受けている。	飛鳥文化
2	唐の初期の文化の影響を受けている。7世紀の後半の律令国家の成立期にあたる文化。高松塚古墳の壁画や薬師寺などが有名である。	白鳳文化
3	遣唐使によってもたらされた唐の文化や仏教の影響が強い、貴族中心の文化である。正倉院や万葉集などが有名。	天平文化
4	日本の国土や生活にあった貴族中心の文化である。摂関政治のころ栄えた文化。かな文字で書かれた源氏物語や枕草子などが有名。	国風文化
5	武家と公家の文化がとけあった禅宗の影響が強い文化である。足利義満のころの文化。金閣や能楽が代表的である。	北山文化
6	武家と公家の文化がとけあった禅宗の影響が強い文化である。足利義政のころの文化。銀閣や水墨画が代表的である。	東山文化
7	戦国大名や大商人がつくり出した豪華で雄大な文化である。仏教の影響が薄く、南蛮文化の影響を受けている。安土城や姫路城が代表的。	桃山文化
8	人情味豊かな町人中心の文化である。江戸時代5代将軍の時代に、商業の発達を背景に上方中心に栄えた。	元禄文化
9	19世紀初頭に江戸中心に栄えた文化である。こっけいや皮肉を楽しむ町人中心の文化である。	化政文化
10	次の語を（使われ始めた）時代順に並びかえよ。ア、銅鐸 イ、土偶 ウ、埴輪 工、打製石器	エ→イ→ア→ウ（エ＝旧石器、イ＝縄文、ア＝弥生、ウ＝古墳）
11	弥生時代の古墳を2つ選べ。 ア、吉野ヶ里遺跡 イ、三内丸山遺跡 ウ、登呂遺跡 工、岩宿遺跡	ア・ウ（エ＝旧石器、イ＝縄文）
12	聖武天皇が大仏殿を建立したのは（①）寺で、鑑真が来日後に奈良に開いたのは（②）寺である。	①東大 ②唐招提

13	正倉院は三角柱の木材を組んだ(①)造である。平安貴族の邸宅の建築様式は(②)造である。	①校倉	②寝殿
14	平安時代の浄土教建築は、宇治に(①)が造られ、平泉に(②)が造られた。 ア、中尊寺 イ、清水寺 ウ、平等院	①ウ	②ア
15	臨済宗や曹洞宗など座禅を組む宗派を(①)という。臨済宗を開いた(②)は宋に渡り、修行した。また茶の種子を持ち返ったとされる。	①禅宗	②栄西
16	鎌倉新仏教で、開いた人物と宗派が違うものを記号で答えよ。 ア、法然=浄土宗 イ、親鸞=浄土真宗 ウ、一遍=曹洞宗 エ、日蓮=法華宗	ウ(一遍は時宗)	
17	鎌倉時代の国宝・東大寺南大門金剛力士像は()と快慶によって造られた。	運慶	
18	次の作品を時代順に並びかえよ。 ア、平家物語 イ、おくのほそ道 ウ、古今和歌集 エ、万葉集	エ→ウ→ア→イ(エ=奈良、ウ=平安、ア=鎌倉、イ=江戸)	
19	次の建築を最初に完成した順に並びかえよ。 ア、平等院鳳凰堂 イ、日光東照宮 ウ、唐招提寺 エ、鹿苑寺金閣	ウ→ア→エ→イ(ウ=奈良、ア=平安、エ=室町、イ=江戸)	
20	次の作品を時代順に並びかえよ。 ア、見返り美人図 イ、秋冬山水図(水墨画) ウ、源氏物語絵巻 エ、唐獅子図屏風	ウ→イ→エ→ア(ウ=平安、イ=室町、エ=安土桃山、ア=江戸)	
21	元禄文化の人物でないものを記号で答えよ。 ア、近松門左衛門 イ、十返舎一九 ウ、松尾芭蕉 エ、井原西鶴	イ(イは化政文化)	
22	『富嶽三十六景』の作者は(①)であり、『東海道五十三次』の作者は(②)である。	①葛飾北斎	②歌川広重
23	福岡平野にあった奴国の王は中国に使いを送り、金印を授けられた。その時の中国の王朝名は何か。	漢(後漢)(「漢委奴国王」という金印の名からわかる)	
24	邪馬台国の卑弥呼は中国に使いを送った。その時の中国の王朝名は何か。	魏(「魏志倭人伝」という書物の名からわかる)	
25	聖徳太子は中国と対等の立場で国交を開こうとして、小野妹子を使いに送った。その時の中国の王朝名は何か。	隋	

26	<p>右の地図は古代の朝鮮半島の国々である。A～Dの国々の名前を記号で答えよ。</p> <p>ア、百済 イ、加羅（伽耶） ウ、新羅 エ、高句麗</p>		
		A エ D ア	B ウ C イ
27	<p>日本は663年に、唐と新羅の連合軍に (①) という戦いで敗れた。その後、中大兄皇子は (②) で即位し、天智天皇となった。</p>	①白村江の戦い	②近江 (大津宮)
28	<p>阿倍仲麻呂は中国に渡ったが、ついに帰国できなかった。逆に鑑真は何度も日本に渡ろうとして苦心した。その時の中国の王朝名は何か。</p>	唐	
29	<p>平清盛は大輪田泊という港で中国と貿易をおこなった。その時の中国の王朝名は何か。</p>	宋	
30	<p>元寇で、1回目の1274年の戦いを (①) の役、2回目の1281年の戦いを (②) の役という。</p>	①文永	②弘安
31	<p>フビライ=ハンは朝鮮半島の () という国を征服した後、日本に攻めてきた。</p>	こうらい 高麗	
32	<p>明は (①) の取り締まりを条件に室町幕府に貿易を認めた。①と区別するため貿易船に (②) という合い札を用いた。</p>	①倭寇 <small>わこう</small>	②勘合 (符)
33	<p>(○か×か) 足利義満は明と対等の立場で貿易をおこなった。</p>	× (義満は明に貢ぎ物を贈る形の朝貢外交を行った)	
34	<p>朝鮮出兵で、1回目の1592年の戦いを (①) の役、2回目の1597年の戦いを (②) の役という。</p>	①文禄	②慶長
35	<p>豊臣秀吉は朝鮮出兵の際に、朝鮮の援軍の中国とも戦った。その時の中国の王朝名は何か。</p>	明 (秀吉のもともとの目的は「大明国の征服」であった)	
36	<p>江戸初期まで行われた東南アジアとの貿易を (①) 貿易という。またこの貿易が行われた結果、東南アジアの各地に (②) 町がつけられた。</p>	①朱印船	②日本
37	<p>(○か×か) 江戸時代、清との間には正式な国交がなかったが、朝鮮との間には国交があった。</p>	○	

38	江戸時代、アイヌ民族との交易の窓口となったのは蝦夷地の(①)藩で、琉球王国を支配し交易の窓口となったのは(②)藩である。	①松前	②薩摩
39	江戸時代に朝鮮との窓口となったのは(①)藩の宗氏であり、将軍の代替わりに朝鮮から来日した使節団を(②)という。	①対馬	②朝鮮通信使
40	(○か×か) 1853年にペリーは4隻の軍艦で太平洋を横断して浦賀に来航し、開国を求めた。	× (ペリーは太平洋横断でなく、大西洋→インド洋をまわって来ている)	
41	鎖国していた日本を開国させた国は(①)であり、鎖国していた朝鮮を開国させた国は(②)である。	①アメリカ	②日本 (1875年の江華島事件をきっかけ)
42	(○か×か) 日中戦争は、当時の中国の首都である北京郊外で日中両軍が衝突したことにより始まった。	× (事件があったのは北京だが、当時の中国の首都は南京である)	
	問43~49の文章の説明する国の名前を答えよ。またその国の場所を地図から選んで記号で答えよ。		
43	1549年に日本にキリスト教を初めて伝えた宣教師の出身の国。南蛮貿易をおこなった。1624年に日本への来航を禁止された国。	スペイン	ウ
44	出島で貿易をおこなった国。この国の「ターヘルアナムトミア」という本から「解体新書」が翻訳された。	オランダ	オ
45	幕末に薩摩藩と戦争をした。ロシアの南下政策に対抗して、1902年に日本と同盟を組んだ。	イギリス	ア
46	カルタ、コンペイトウ、タバコ、パンはこの国の言葉。1543年に鉄砲を伝えた国。1639年に日本への来航を禁止された国。	ポルトガル	イ
47	マルコ=ポーロはこの国のベネツィアの商人だった。第二次大戦の時は日本と同盟を結んだ。	イタリア	キ
48	大日本帝国憲法はこの国の憲法を参考にした。第一次大戦では日本と戦い、第二次大戦の時は日本と同盟を結んだ。	ドイツ	カ
49	富岡製糸場はこの国から技術指導を受けた。日清戦争の後にロシアと三国干渉をおこなった。第一次大戦後の講和会議がこの国で開かれた。	フランス	エ