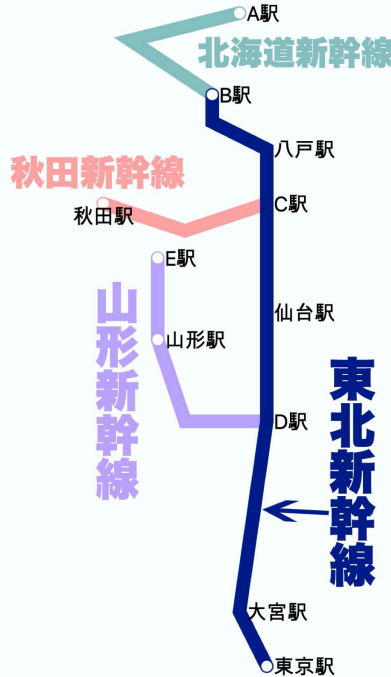


氏名

得点

図1



1

北海道新幹線の現在の下り終着駅であるA駅の名前を答えよ。

2

東北新幹線の下り終着駅であるB駅の名前を答えよ。

3

東北新幹線から秋田新幹線に分岐するC駅の名前を答えよ。

4

東北新幹線から山形新幹線に分岐するD駅の名前を答えよ。

5

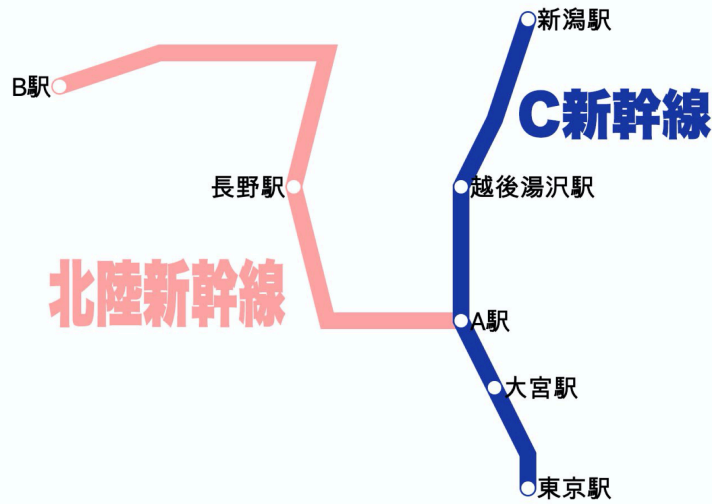
山形新幹線の下り終着駅であるE駅の名前を答えよ。

6

在来線を利用した秋田新幹線や山形新幹線のような新幹線を () という。

7	東北新幹線が通過する都道府県は、東京→埼玉→(①)→(②)→福島→宮城→岩手→青森の8つである。	①	②
図2			
8	東海道新幹線の下り終着駅であり、D新幹線の下り始発駅でもあるA駅の名前を答えよ。		
9	D新幹線の名前を答えよ。		
10	東海道新幹線がつくられた年に、日本で開かれた国際的なイベントの名を答えよ。		
11	D新幹線の下り終着駅であり、九州新幹線の下り始発駅でもあるB駅の名前を答えよ。		
12	九州新幹線の下り終着駅であるC駅の名前を答えよ。		
13	九州新幹線の通過する県を順番に答えよ。 福岡→佐賀→(①)→(②)→鹿児島	①	②
14	東京から福岡に新幹線で向かう時に、通過する川を東から西の順番で並びかえよ。 ア、大井川 イ、富士川 ウ、木曽川 エ、天竜川	→ → →	
15	東京から福岡に新幹線で向かう時に、通過する都府県の数答えよ。		
16	新幹線の駅がある都道府県を記号で選べ。 ア、千葉県 イ、長野県 ウ、奈良県 エ、山梨県		

図3



17	北陸新幹線の現在の下り終着駅であるB駅の名前を答えよ。	
18	C新幹線の名前を答えよ。	
19	C新幹線から北陸新幹線に分岐するA駅の名前を答えよ。	
20	北陸新幹線を長野駅を出発する時、通る順に並びかえよ。 ア、糸魚川 <small>いといがわ</small> イ、野尻湖 ウ、親不知 <small>おやしらず</small> エ、金沢 オ、黒部川	→ → → →
21	現在建設中で、初の電導リニアで駆動する新幹線は何か。完成のあかつきには品川～新大阪を67分で結ぶ予定である。	
22	中央リニア新幹線は品川～名古屋間で開通予定である。品川駅発・名古屋駅着の場合で、通過予定順に並び替えよ。 ア、中津川（岐阜） イ、甲府 ウ、相模原 エ、飯田（長野）	→ → →
23	2022年に開業した（ ）新幹線は、武雄温泉 <small>たけお</small> → 嬉野温泉 <small>うれしの</small> → 新大村 <small>いさはや</small> → 諫早 → 長崎を結ぶ。	
24	東京から新潟県を結ぶ高速道路は（ ）である。	
25	東名高速道路が通る都県を並び変えよ。 東京都 → ① → ② → ③ ア、愛知県 イ、神奈川県 ウ、静岡県	① → ② → ③

26	<p>新東名高速道路について正しくないものを記号で選べ。</p> <p>ア、東名高速道路より海側を通っている。</p> <p>イ、交通量を分散させ渋滞を減らす役割が期待されている。</p> <p>ウ、地震や台風で東名高速が被害を受けた場合に、代わって東西の陸上輸送路の役割を果たし続けることが期待されている。</p>	
27	<p>中央自動車道が通る都県を並び変えよ。</p> <p>東京都 → (①) → (②) → (③) → (④)</p> <p>→ 愛知県</p> <p>ア、山梨県 イ、神奈川県 ウ、岐阜県</p> <p>エ、長野県</p>	<p>① → ② → ③ → ④</p>
28	<p>高速道路の料金所で停車せずに、通行料金を自動でしはらう仕組みを () という。</p>	
29	<p>国内航空輸送の旅客輸送のうち、最も輸送量が多い路線は東京(羽田)と () を結ぶ路線である。</p>	
30	<p>多くの航空路線が集中し、乗り継ぎにも便利な空港を、その様子が車輪の中心部に似ていることから () と呼ぶ。</p>	
31	<p>貨物輸送量の多い順に並びかえよ。</p> <p>ア、自動車 イ、航空機 ウ、船 エ、鉄道</p>	<p>→ → →</p>
32	<p>旅客輸送量の多い順に並びかえよ。</p> <p>ア、自動車 イ、航空機 ウ、船 エ、鉄道</p>	<p>→ → →</p>
33	<p>日本は自動車を (①) から最も多く輸入し、(②) に最も多く輸出している。</p>	<p>①</p> <p>②</p>
34	<p>オーストラリアやサウジアラビアとの貿易では、日本は貿易 () 字になっている。</p>	
35	<p>日本にとっての最大の貿易相手国は (①) で輸入は①からが最大。輸出は①や、かつては最大の貿易相手国だった (②) へ多くしている。</p>	<p>①</p> <p>②</p>
	<p>問36~38までそれぞれの輸出入品目をあつかう貿易港を記号で答えよ。</p> <p>ア、成田国際空港 イ、名古屋港 ウ、東京港</p>	
36	<p>【輸入】通信機、医薬品、コンピューター</p> <p>【輸出】半導体、金、科学光学機械</p>	

37	【輸入】衣類、コンピューター、肉類 【輸出】自動車部品、半導体	
38	【輸入】液化ガス、衣類、石油 【輸出】自動車、自動車部品	
39	1ドル=100円だった交換比率が、1ドル=80円になることは円高というか、それとも円安というか。	
40	日本の製品輸入が増えた理由として正しくないものを記号で答えよ。 ア、日本の会社が海外の工場で生産した製品の輸入が増えた。 イ、アジアの国々の工業が発達して、安い製品が日本に輸入されるようになった。 ウ、1985年以來の円安で輸入がしやすくなった。	
41	円高になるとふつう起こることとして正しくないものを記号で答えよ。 ア、外国製品を輸入する時に支払う金額は増えるので不利になる。 イ、輸入される原油や石炭などの価格が下がり、電気やガス料金が下がることもある。 ウ、海外旅行では、円をより多くの外国通貨と交換できるので、有利になる。	
42	頁岩 <small>けつがん</small> とよばれる地層に含まれた（ ）を安い費用で取り出す技術が進み、アメリカやカナダで採掘されている。	
43	輸入国の政府が輸入品にかかる税金を（①）という。この税率を高くしたりして、制限が加えられた貿易を（②）という。	① ②
44	問43のような貿易をやめさせ、貿易の自由化を目指している国際機関を何というか。	
45	経済成長が著しいブラジル・ロシア・インド・中国・南アフリカ共和国らをまとめて（ ）と呼ぶ。	
46	2か国以上の国・地域が、関税などの貿易制限を撤廃し、自由貿易を行っていく取り決めをなんというか。	
47	貿易だけでなく、人やお金や技術協力を自由に行えるようにする協定を何というか。（例 インドネシア人の看護師が日本で働くようにする）	

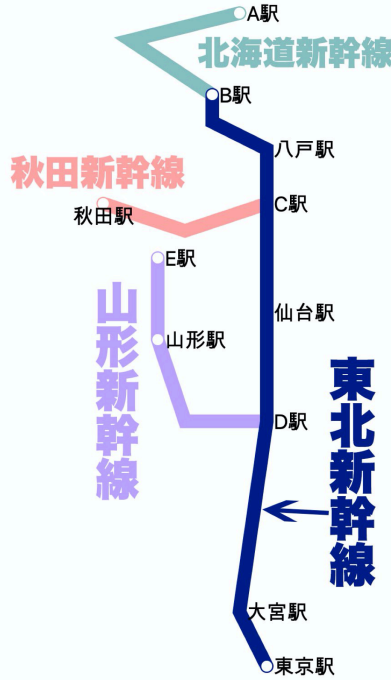
48	<p>開発途上国で作られる作物（例 コーヒー豆）などをあまり安く買い上げると、生産国の人々の生活水準が上がっていかない。それを避けるため、適切な価格で輸入することによって、生産国の労働者の生活改善と自立を目指す貿易の仕組みを（ ）という。</p>		
49	<p>外国から原材料を輸入し、工業製品を作って輸出する貿易を（ ）という。戦前の日本は綿花など、戦後は石油などを輸入。</p>		
50	<p>海外にある日本の会社の工場から、製品を輸入することを（ ）という。</p>		
51	<p>海外からの輸入が増えすぎて、しいたけやいぐさなど緊急輸入制限をしたことがあるが、これを何というか。</p>		
52	<p>「食料輸入量×輸送距離」を示す数値を（ ）といい、日本は遠い国から多くの食料を輸入しているので数値が大きい。</p>		
53	<p>1991年に日本は牛肉と（①）の輸入自由化をすることになった。そのため愛媛県の農家などでは（②）などに転作する工夫が行われた。</p>	①	②
54	<p>1995年には最低輸入量＝（ ）に基づいた米の輸入が開始された。</p>		

氏名

満点 とれ太

得点

図1



1

北海道新幹線の現在の下り終着駅であるA駅の名前を答えよ。

新函館北斗駅

2

東北新幹線の下り終着駅であるB駅の名前を答えよ。

新青森駅

3

東北新幹線から秋田新幹線に分岐するC駅の名前を答えよ。

盛岡駅

4

東北新幹線から山形新幹線に分岐するD駅の名前を答えよ。

福島駅

5

山形新幹線の下り終着駅であるE駅の名前を答えよ。

新庄駅

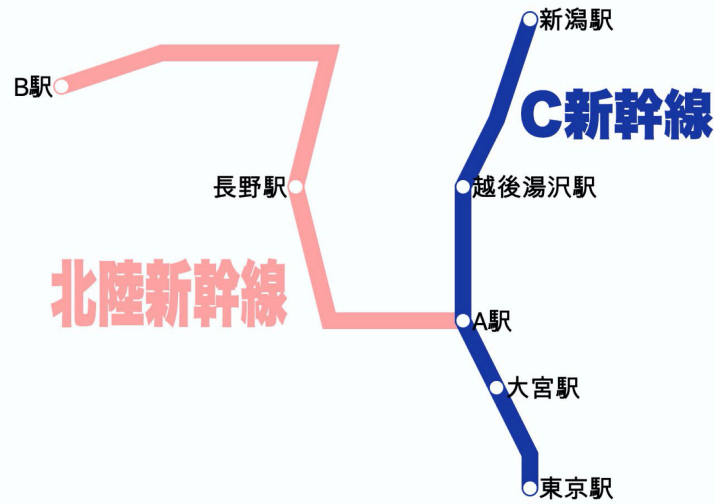
6

在来線を利用した秋田新幹線や山形新幹線のような新幹線を () という。

ミニ新幹線

7	東北新幹線が通過する都道府県は、東京→埼玉→(①)→(②)→福島→宮城→岩手→青森の8つである。	①茨城 (茨城は新幹線駅はない。通過するだけ)	②栃木
図2			
8	東海道新幹線の下り終着駅であり、D新幹線の下り始発駅でもあるA駅の名前を答えよ。	新大阪駅	
9	D新幹線の名前を答えよ。	山陽新幹線	
10	東海道新幹線がつくられた年に、日本で開かれた国際的なイベントの名を答えよ。	東京オリンピック(1964年)	
11	D新幹線の下り終着駅であり、九州新幹線の下り始発駅でもあるB駅の名前を答えよ。	博多駅	
12	九州新幹線の下り終着駅であるC駅の名前を答えよ。	鹿児島中央駅	
13	九州新幹線の通過する県を順番に答えよ。 福岡→佐賀→(①)→(②)→鹿児島	①福岡 (いったん佐賀の鳥栖を通った後、再び福岡県内を通過する)	②熊本
14	東京から福岡に新幹線で向かう時に、通過する川を東から西の順番で並びかえよ。 ア、大井川 イ、富士川 ウ、木曾川 エ、天竜川	イ→ア→エ→ウ	
15	東京から福岡に新幹線で向かう時に、通過する都府県の数答えよ。	13 (東京、神奈川、静岡、愛知、岐阜、滋賀、京都、大阪、兵庫、岡山、広島、山口、福岡)	
16	新幹線の駅がある都道府県を記号で選べ。 ア、千葉県 イ、長野県 ウ、奈良県 エ、山梨県	イ	

図3



17	北陸新幹線の現在の下り終着駅であるB駅の名前を答えよ。	金沢駅
18	C新幹線の名前を答えよ。	上越新幹線
19	C新幹線から北陸新幹線に分岐するA駅の名前を答えよ。	高崎駅
20	北陸新幹線を長野駅を出発する時、通る順に並びかえよ。 ア、糸魚川 <small>いといがわ</small> イ、野尻湖 ウ、親不知 <small>おやしらず</small> エ、金沢 オ、黒部川	イ→ア→ウ→オ→エ
21	現在建設中で、初の電導リニアで駆動する新幹線は何か。完成のあかつきには品川～新大阪を67分で結ぶ予定である。	リニア中央新幹線
22	中央リニア新幹線は品川～名古屋間で開通予定である。品川駅発・名古屋駅着の場合で、通過予定順に並び替えよ。 ア、中津川（岐阜） イ、甲府 ウ、相模原 エ、飯田（長野）	ウ→イ→エ→ア
23	2022年に開業した（ ）新幹線は、武雄温泉 <small>たけのお</small> → 嬉野温泉 <small>うれしの</small> → 新大村 <small>いさはや</small> → 諫早 → 長崎を結ぶ。	西九州
24	東京から新潟県を結ぶ高速道路は（ ）である。	関越自動車道
25	東名高速道路が通る都県を並び変えよ。 東京都 → ① → ② → ③ ア、愛知県 イ、神奈川県 ウ、静岡県	①イ → ②ウ → ③ア

26	<p>新東名高速道路について正しくないものを記号で選べ。</p> <p>ア、東名高速道路より海側を通っている。</p> <p>イ、交通量を分散させ渋滞を減らす役割が期待されている。</p> <p>ウ、地震や台風で東名高速が被害を受けた場合に、代わって東西の陸上輸送路の役割を果たし続けることが期待されている。</p>	ア	
27	<p>中央自動車道が通る都県を並び変えよ。</p> <p>東京都 → (①) → (②) → (③) → (④)</p> <p>→ 愛知県</p> <p>ア、山梨県 イ、神奈川県 ウ、岐阜県</p> <p>エ、長野県</p>	①イ → ②ア → ③エ → ④ウ	
28	<p>高速道路の料金所で停車せずに、通行料金を自動でしはらう仕組みを () という。</p>	ETC	
29	<p>国内航空輸送の旅客輸送のうち、最も輸送量が多い路線は東京(羽田)と () を結ぶ路線である。</p>	札幌(新千歳)	
30	<p>多くの航空路線が集中し、乗り継ぎにも便利な空港を、その様子が車輪の中心部に似ていることから () と呼ぶ。</p>	ハブ空港	
31	<p>貨物輸送量の多い順に並びかえよ。</p> <p>ア、自動車 イ、航空機 ウ、船 エ、鉄道</p>	<p>ア → ウ → エ → イ</p> <p>(自動車50船44鉄道5航空機0.3)</p>	
32	<p>旅客輸送量の多い順に並びかえよ。</p> <p>ア、自動車 イ、航空機 ウ、船 エ、鉄道</p>	<p>ア → エ → イ → ウ</p> <p>(自動車63鉄道31航空機6船0.2)</p>	
33	<p>日本は自動車を (①) から最も多く輸入し、(②) に最も多く輸出している。</p>	①ドイツ	②アメリカ
34	<p>オーストラリアやサウジアラビアとの貿易では、日本は貿易 () 字になっている。</p>	赤 (資源国との貿易ではふつう赤字になる)	
35	<p>日本にとっての最大の貿易相手国は (①) で輸入は①からが最大。輸出は①や、かつては最大の貿易相手国だった (②) へ多くしている。</p>	①中国	②アメリカ
	<p>問36~38までそれぞれの輸出入品目をあつかう貿易港を記号で答えよ。</p> <p>ア、成田国際空港 イ、名古屋港 ウ、東京港</p>		
36	<p>【輸入】通信機、医薬品、コンピューター</p> <p>【輸出】半導体、金、科学光学機械</p>	ア (空港では小型で高価なものが多い)	

37	【輸入】衣類、コンピューター、肉類 【輸出】自動車部品、半導体	ウ（東京、大阪、神戸などの人口の多いところでは衣類、食料品などの生活必需品の輸入が多くなる）	
38	【輸入】液化ガス、衣類、石油 【輸出】自動車、自動車部品	イ（名古屋（中京）、横浜（京浜）などの工業地帯のそばでは自動車の輸出が多くなる）	
39	1ドル＝100円だった交換比率が、1ドル＝80円になることは円高というか、それとも円安というか。	円高（1ドル100円のハンバーガーが80円で買えるようになるのは円の価値が高まったから）	
40	日本の製品輸入が増えた理由として正しくないものを記号で答えよ。 ア、日本の会社が海外の工場で生産した製品の輸入が増えた。 イ、アジアの国々の工業が発達して、安い製品が日本に輸入されるようになった。 ウ、1985年以来の円安で輸入がしやすくなった。	ウ（輸入しやすくなるのは円高の時）	
41	円高になるとふつう起こることとして正しくないものを記号で答えよ。 ア、外国製品を輸入する時に支払う金額は増えるので不利になる。 イ、輸入される原油や石炭などの価格が下がり、電気やガス料金が下がることもある。 ウ、海外旅行では、円をより多くの外国通貨と交換できるので、有利になる。	ア	
42	頁岩 <small>けつがん</small> とよばれる地層に含まれた（ ）を安い費用で取り出す技術が進み、アメリカやカナダで採掘されている。	シェールガス	
43	輸入国の政府が輸入品にかかる税金を（①）という。この税率を高くしたりして、制限が加えられた貿易を（②）という。	①関税	②保護貿易
44	問43のような貿易をやめさせ、貿易の自由化を目指している国際機関を何というか。	世界貿易機関（WTO）	
45	経済成長が著しいブラジル・ロシア・インド・中国・南アフリカ共和国らをまとめて（ ）と呼ぶ。	BRICS（ブリックス）	
46	2か国以上の国・地域が、関税などの貿易制限を撤廃し、自由貿易を行っていく取り決めにんんというか。	自由貿易協定（FTA）	
47	貿易だけでなく、人やお金や技術協力を自由に行えるようにする協定を何というか。（例インドネシア人の看護師が日本で働くようにする）	経済連携協定（EPA）	

48	開発途上国で作られる作物（例 コーヒー豆）などをあまり安く買い上げると、生産国の人々の生活水準が上がっていかない。それを避けるため、適切な価格で輸入することによって、生産国の労働者の生活改善と自立を目指す貿易の仕組みを（ ）という。	フェアトレード	
49	外国から原材料を輸入し、工業製品を作って輸出する貿易を（ ）という。戦前の日本は綿花など、戦後は石油などを輸入。	加工貿易	
50	海外にある日本の会社の工場から、製品を輸入することを（ ）という。	逆輸入	
51	海外からの輸入が増えすぎて、しいたけやいぐさなど緊急輸入制限をしたことがあるが、これを何というか。	セーフガード	
52	「食料輸入量×輸送距離」を示す数値を（ ）といい、日本は遠い国から多くの食料を輸入しているので数値が大きい。	フードマイレージ	
53	1991年に日本は牛肉と（①）の輸入自由化をすることになった。そのため愛媛県の農家などでは（②）などに転作する工夫が行われた。	①オレンジ	②キウイフルーツ
54	1995年には最低輸入量＝（ ）に基づいた米の輸入が開始された。	ミニマムアクセス	